



Series Z1XYW/1

SET - 2

प्रश्न-पत्र कोड
Q.P. Code

31/1/2

रोल नं.

Roll No.



परीक्षार्थी प्रश्न-पत्र कोड को उत्तर-पुस्तिका के मुख-पृष्ठ पर अवश्य लिखें।

Candidates must write the Q.P. Code on the title page of the answer-book.

- कृपया जाँच कर लें कि इस प्रश्न-पत्र में मुद्रित पृष्ठ 31 हैं।
- प्रश्न-पत्र में दाहिने हाथ की ओर दिए गए प्रश्न-पत्र कोड को परीक्षार्थी उत्तर-पुस्तिका के मुख-पृष्ठ पर लिखें।
- कृपया जाँच कर लें कि इस प्रश्न-पत्र में 39 प्रश्न हैं।
- कृपया प्रश्न का उत्तर लिखना शुरू करने से पहले, उत्तर-पुस्तिका में प्रश्न का क्रमांक अवश्य लिखें।
- इस प्रश्न-पत्र को पढ़ने के लिए 15 मिनट का समय दिया गया है। प्रश्न-पत्र का वितरण पूर्वाह्न में 10.15 बजे किया जाएगा। 10.15 बजे से 10.30 बजे तक परीक्षार्थी केवल प्रश्न-पत्र को पढ़ेंगे और इस अवधि के दौरान वे उत्तर-पुस्तिका पर कोई उत्तर नहीं लिखेंगे।
- Please check that this question paper contains 31 printed pages.
- Q.P. Code given on the right hand side of the question paper should be written on the title page of the answer-book by the candidate.
- Please check that this question paper contains 39 questions.
- Please write down the serial number of the question in the answer-book before attempting it.
- 15 minute time has been allotted to read this question paper. The question paper will be distributed at 10.15 a.m. From 10.15 a.m. to 10.30 a.m., the candidates will read the question paper only and will not write any answer on the answer-book during this period.

विज्ञान

SCIENCE

निर्धारित समय : 3 घण्टे

Time allowed : 3 hours

अधिकतम अंक : 80

Maximum Marks : 80



31/1/2

106 B

1

P.T.O.



सामान्य निर्देश :

निम्नलिखित निर्देशों को सावधानी से पढ़िए और उनका पालन कीजिए :

- (i) इस प्रश्न-पत्र में 39 प्रश्न हैं। सभी प्रश्न अनिवार्य हैं।
- (ii) यह प्रश्न-पत्र पाँच खण्डों में विभाजित है – खण्ड-क, ख, ग, घ तथा ङ।
- (iii) खण्ड-क में प्रश्न संख्या 1 से 20 तक बहुविकल्पीय प्रकार के एक-एक अंक के प्रश्न हैं।
- (iv) खण्ड-ख में प्रश्न संख्या 21 से 26 तक अति लघु-उत्तरीय प्रकार के दो-दो अंकों के प्रश्न हैं। इन प्रश्नों के उत्तर 30 से 50 शब्दों में दिए जाने चाहिए।
- (v) खण्ड-ग में प्रश्न संख्या 27 से 33 तक लघु-उत्तरीय प्रकार के तीन-तीन अंकों के प्रश्न हैं। इन प्रश्नों के उत्तर 50 से 80 शब्दों में दिए जाने चाहिए।
- (vi) खण्ड-घ में प्रश्न संख्या 34 से 36 तक दीर्घ उत्तरीय प्रकार के पाँच-पाँच अंकों के प्रश्न हैं। इन प्रश्नों के उत्तर 80 से 120 शब्दों में दिए जाने चाहिए।
- (vii) खण्ड-ङ में प्रश्न संख्या 37 से 39 तक स्रोत/प्रकरण इकाई अध्ययन आधारित चार-चार अंकों के प्रश्न (उपप्रश्नों सहित) हैं।
- (viii) प्रश्न-पत्र में समग्र विकल्प नहीं दिया गया है। यद्यपि, कुछ खण्डों में आंतरिक विकल्प दिए गए हैं।



General Instructions :

Read the following instructions carefully and strictly follow them :

- (i) *This question paper consists of 39 questions. All questions are compulsory.*
- (ii) *Question paper is divided into FIVE sections viz. Section A, B, C, D and E.*
- (iii) *In Section A - question number 1 to 20 are Multiple Choice Questions (MCQs) carrying 1 mark each.*
- (iv) *In Section B - question number 21 to 26 are Very Short Answer (VSA) type questions carrying 2 marks each. Answer to these questions should be in the range of 30 to 50 words.*
- (v) *In Section C - question number 27 to 33 are Short Answer (SA) type questions carrying 3 marks each. Answer to these questions should be in the range of 50 to 80 words.*
- (vi) *In Section D - question number 34 to 36 are Long Answer (LA) type questions carrying 5 marks each. Answer to these questions should be in the range of 80 to 120 words.*
- (vii) *In Section E - question number 37 to 39 are of 3 source-based / case-based units of assessment carrying 4 marks each with sub-parts.*
- (viii) *There is no overall choice. However, an internal choice has been provided in some Sections.*

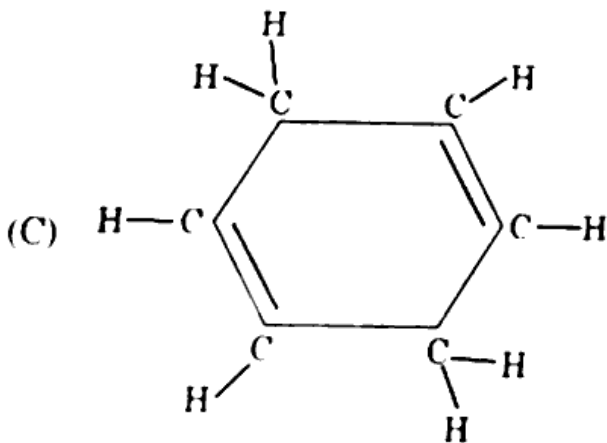
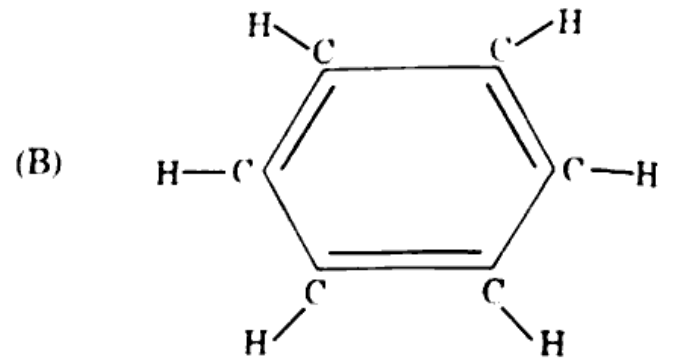
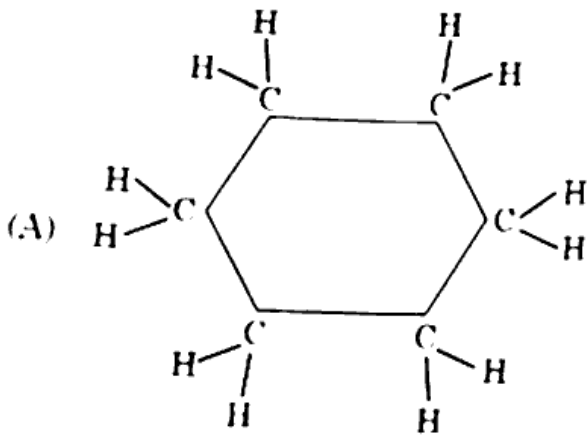


खण्ड - क

प्रश्न 1 से 20 तक के प्रश्नों में दिए गए चार विकल्पों में से सबसे उचित एक विकल्प चुनिए और लिखिए :

1. नीचे दी गयी तीन चक्रीय कार्बन-यौगिकों A, B और C की संरचनाओं पर विचार कीजिए और निम्नलिखित में से सही विकल्प को चुनिए :

1



- (a) A और C हैक्सेन के समावयव हैं तथा B बेन्जीन है ।
 (b) A हैक्सेन का समावयव है, B बेन्जीन है तथा C हैक्सीन का समावयव है ।
 (c) A संतृप्त चक्रीय हाइड्रोकार्बन है तथा B और C असंतृप्त चक्रीय हाइड्रोकार्बन हैं ।
 (d) A साइक्लोहैक्सेन है तथा B और C बेन्जीन के समावयव हैं ।

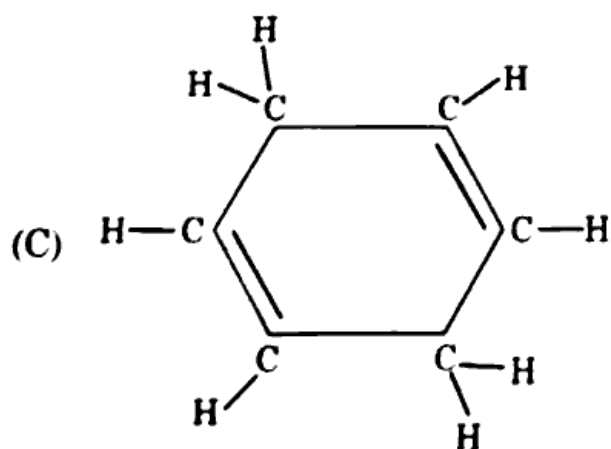
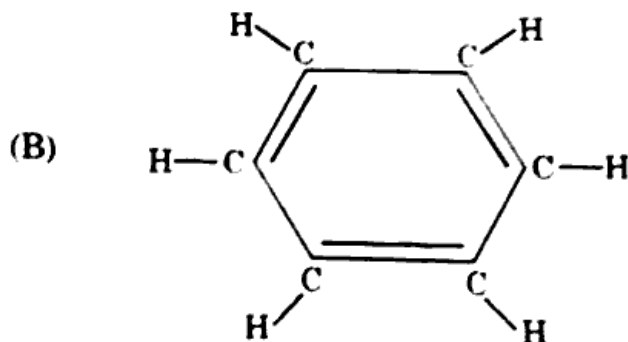
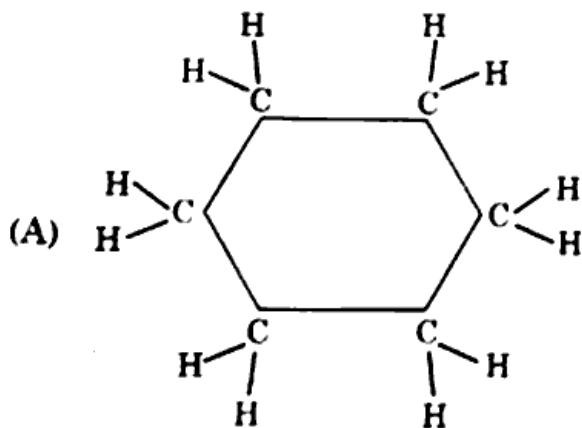


SECTION - A

Select and write one most appropriate option out of the four options given for each of the questions 1 - 20 :

1. Consider the structures of the three cyclic carbon compounds A, B and C given below and select the correct option from the following :


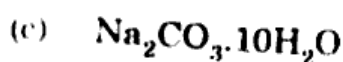
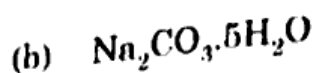
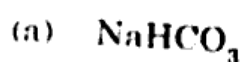
1



- (a) A and C are isomers of hexane and B is benzene.
(b) A is an isomer of hexane, B is benzene and C is an isomer of hexene.
(c) A is a saturated cyclic hydrocarbon and B and C are unsaturated cyclic hydrocarbons.
(d) A is cyclohexane and B and C are the isomers of benzene.



2. निम्नलिखित में से धोने का सोडा चुनिए :



3. खाना पकाने के बर्तनों को बनाने में कॉपर का उपयोग किया जाता है। नीचे दिया गया कॉपर का कौन सा गुण इसके लिए उत्तरदायी नहीं है ?

(a) आघातवर्ध्यता

(b) उच्च गलनांक

(c) ऊष्मीय चालकता

(d) उच्च अभिक्रियाशीलता

4. नीचे दी गयी सारणी में चार विभिन्न विलयनों के pH और उनकी प्रकृति (अम्लीय/क्षारीय) के बारे में सूचना दी गयी है। इस सारणी का कौन सा विकल्प सही है ?

विकल्प	विलयन	pH पत्र का रंग	pH का सन्निकट मान	विलयन की प्रकृति
(a)	नींबू का रस	नारंगी	3	क्षारकीय
(b)	मिल्क ऑफ मैग्नीशिया	नीला	10	क्षारकीय
(c)	जठर रस	लाल	6	अम्लीय
(d)	शुद्ध जल	पीला	7	उदासीन



उपरोक्त रासायनिक समीकरण को संतुलित करने के लिए x , y और z के मान होने चाहिए क्रमशः

(a) 6, 2, 2

(b) 4, 1, 2

(c) 4, 2, 1

(d) 2, 2, 1



2. Select washing soda from the following : 1

- (a) NaHCO_3 (b) $\text{Na}_2\text{CO}_3 \cdot 5\text{H}_2\text{O}$
(c) $\text{Na}_2\text{CO}_3 \cdot 10\text{H}_2\text{O}$ (d) NaOH

3. Copper is used for making cooking utensils. Which of the following physical properties of copper is NOT responsible for the same ? 1

- (a) Malleability (b) High melting point
(c) Thermal conductivity (d) High reactivity

4. The table below has information regarding pH and the nature (acidic/basic) of four different solutions. Which one of the options in the table is correct ? 1

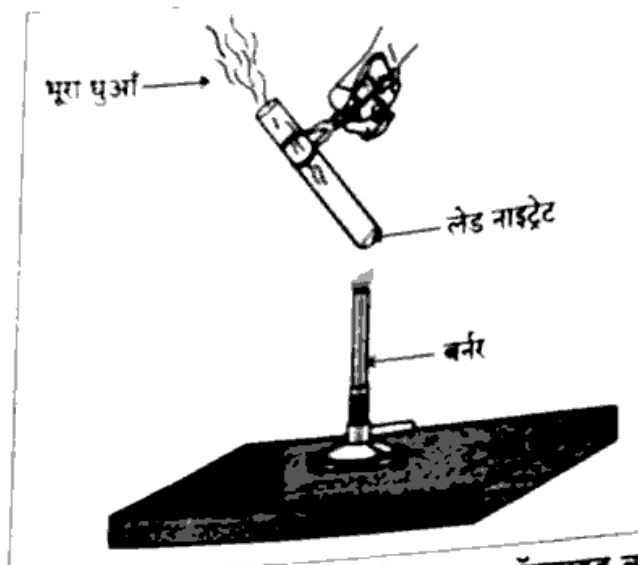
Option	Solution	Colour of pH paper	Approximate pH value	Nature of solution
(a)	Lemon juice	Orange	3	Basic
(b)	Milk of magnesia	Blue	10	Basic
(c)	Gastric juice	Red	6	Acidic
(d)	Pure water	Yellow	7	Neutral

5. $\text{MnO}_2 + x \text{HCl} \rightarrow \text{MnCl}_2 + y \text{H}_2\text{O} + z \text{Cl}_2$ 1

In order to balance the above chemical equation, the values of x, y and z respectively are :

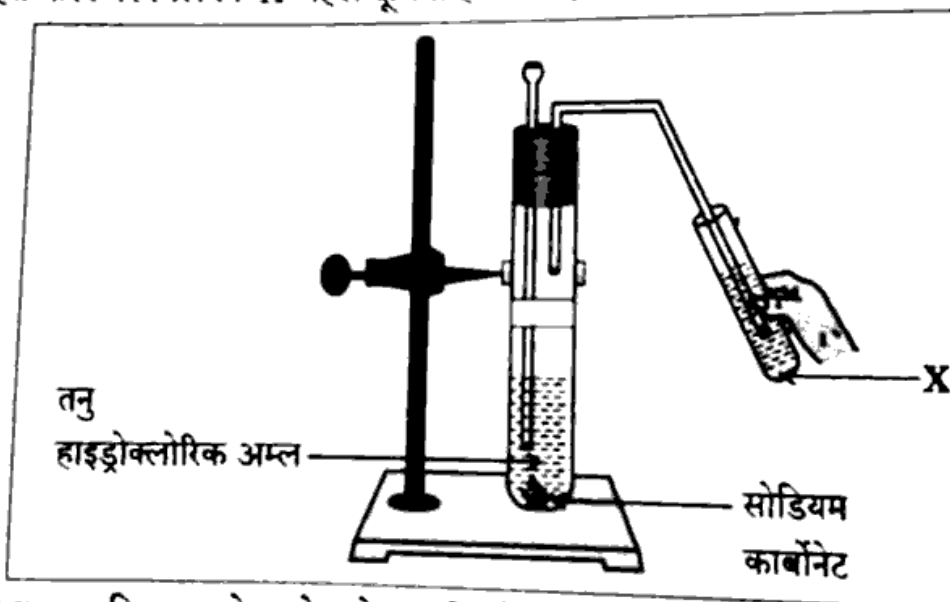
- (a) 6, 2, 2 (b) 4, 1, 2
(c) 4, 2, 1 (d) 2, 2, 1

6. दी गयी प्रायोगिक व्यवस्था में भूरे धुआँ के उत्सर्जन का कारण



- (a) लेड नाइट्रेट का ऊष्मीय वियोजन है जिसमें नाइट्रोजन डाइऑक्साइड का भूरा धुआँ उत्पन्न होता है ।
 (b) लेड नाइट्रेट का ऊष्मीय वियोजन है जिसमें लेड ऑक्साइड का भूरा धुआँ उत्पन्न होता है ।
 (c) लेड नाइट्रेट का उपचयन है जिसमें लेड ऑक्साइड और नाइट्रोजन डाइऑक्साइड बनते हैं ।
 (d) लेड नाइट्रेट का उपचयन है जिसमें लेड ऑक्साइड और ऑक्सीजन बनती है ।

7. दी गयी प्रायोगिक व्यवस्था में प्रेक्षण करने पर यह पाया गया कि अभिक्रिया में उत्पन्न गैस को विलयन 'X' में प्रवाहित करने पर विलयन 'X' पहले दूधिया हो जाता है और फिर रंगहीन हो जाता है ।

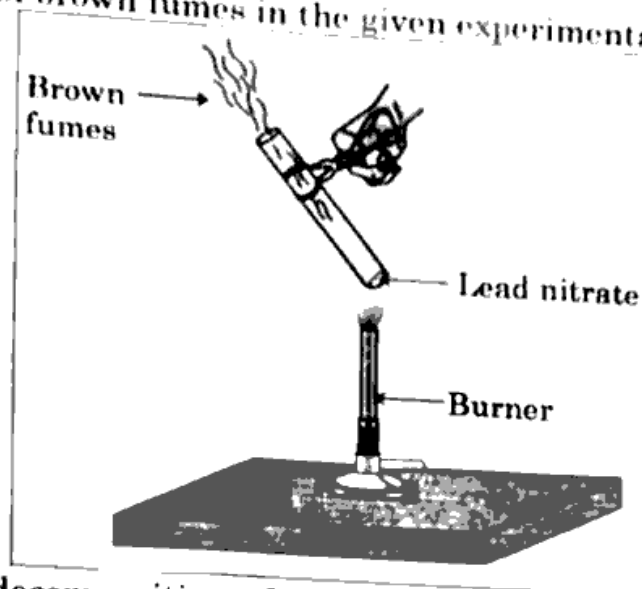


नीचे दिया गया वह विकल्प जो उपरोक्त प्रेक्षण की पुष्टि करता है इस प्रकार है -

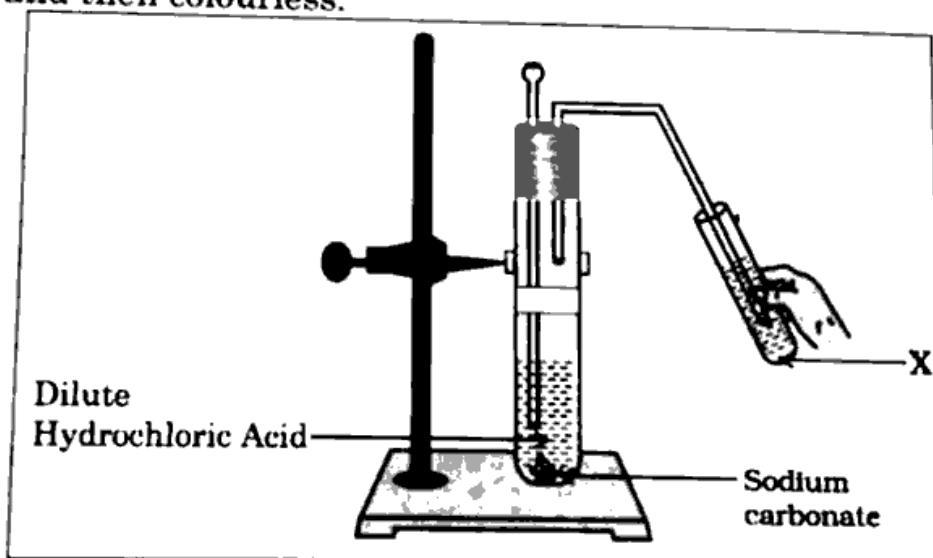
'X' कैल्शियम हाइड्रॉक्साइड का जलीय विलयन है तथा

- (a) अभिक्रिया में निकलने वाली कार्बन डाइऑक्साइड गैस के कारण यह दूधिया हो जाता है और कुछ समय के पश्चात कैल्शियम कार्बोनेट बनने के कारण यह रंगहीन हो जाता है ।

6. The emission of brown fumes in the given experimental set-up is due to



- (a) thermal decomposition of lead nitrate which produces brown fumes of nitrogen dioxide.
(b) thermal decomposition of lead nitrate which produces brown fumes of lead oxide.
(c) oxidation of lead nitrate forming lead oxide and nitrogen dioxide.
(d) oxidation of lead nitrate forming lead oxide and oxygen.
7. In the experimental setup given below, it is observed that on passing the gas produced in the reaction in the solution 'X' the solution 'X' first turns milky and then colourless.



The option that justifies the above stated observation is that 'X' is aqueous calcium hydroxide and

- (a) it turns milky due to carbon dioxide gas liberated in the reaction and after sometime it becomes colourless due to formation of calcium carbonate.



- (b) कैल्सियम कार्बोनेट बनने के कारण यह विलयन दूधिया हो जाता है और कार्बन डाइऑक्साइड के आधिक्य को प्रवाहित करने पर यह रंगहीन कैल्सियम हाइड्रोजन कार्बोनेट बन जाता है जो जल में घुलनशील है।
- (c) कार्बन डाइऑक्साइड को प्रवाहित करने के कारण यह विलयन दूधिया हो जाता है तथा इसके पश्चात् और अधिक गैस प्रवाहित करने पर यह सोडियम हाइड्रोजन कार्बोनेट में परिवर्तित हो जाता है जो जल में घुलनशील है।
- (d) अभिक्रिया में निकली कार्बन डाइऑक्साइड गैस कैल्सियम हाइड्रोजन कार्बोनेट बनने के कारण चूने के पानी को दूधिया कर देती है तथा कुछ समय पश्चात् कैल्सियम कार्बोनेट बनने के कारण विलयन रंगहीन हो जाता है, क्योंकि यह पानी में घुलनशील है।

8. निम्नलिखित में से ऊष्माशोषी अभिक्रिया चुनिए :

- (a) शाक-सब्जियों (वनस्पति द्रव्य) का विघटित होकर कम्पोस्ट बनना।
- (b) कैल्सियम कार्बोनेट के विघटन से बिना बुझा चूना और कार्बन डाइऑक्साइड बनना।
- (c) मोमबत्ती का जलना।
- (d) श्वसन की प्रक्रिया।

9. निम्नलिखित में से वह कथन चुनिए जो पौधों में अनुवर्तनी गति के लिए सही है :

- (a) यह स्पर्श और ताप के उद्दीपन के कारण होती है।
- (b) यह प्राप्त होने वाले उद्दीपन की दिशा पर निर्भर नहीं करती है।
- (c) यह केवल जड़ों में दिखाई देती है तनों में नहीं।
- (d) यह गति वृद्धि से संबंधित होती है।

10. निम्नलिखित में से वह कथन चुनिए जो किसी जीन के लक्षण का सही वर्णन करता है :

- (a) किसी दी गयी स्पीशीज़ की व्यष्टि में किसी विशेष गुणसूत्र पर कोई विशिष्ट जीन स्थित होता है।
- (b) किसी कोशिका में प्रोटीन बनाने के लिए जीन कोई सूचना स्रोत नहीं है।
- (c) प्रत्येक गुणसूत्र पर उसकी लम्बाई के अनुदिश केवल एक जीन स्थित होता है।
- (d) मानवों में सभी वंशागत लक्षण जीनों द्वारा नियंत्रित नहीं होते हैं।



- (b) it turns milky due to formation of calcium carbonate and on passing excess of carbon dioxide it becomes colourless due to formation of calcium hydrogen carbonate which is soluble in water.
- (c) it turns milky due to passing of carbon dioxide through it. It turns colourless as on further passing carbon dioxide, sodium hydrogen carbonate is formed which is soluble in water.
- (d) the carbon dioxide liberated during the reaction turns lime water milky due to formation of calcium hydrogen carbonate and after some time it turns colourless due to formation of calcium carbonate which is soluble in water.
3. Select endothermic reaction from the following : 1
- (a) Decomposition of vegetable matter into compost.
- (b) Decomposition of calcium carbonate to form quick lime and carbon dioxide.
- (c) Burning of a candle.
- (d) Process of respiration.
3. Select from the following the correct statement about tropic movement in plants : 1
- (a) It is due to stimulus of touch and temperature.
- (b) It does not depend upon the direction of stimulus received.
- (c) It is observed only in roots and not in stems.
- (d) It is a growth related movement.
0. The statement that correctly describes the characteristic(s) of a gene is : 1
- (a) In individuals of a given species, a specific gene is located on a particular chromosome.
- (b) A gene is not the information source for making proteins in the cell.
- (c) Each chromosome has only one gene located all along its length.
- (d) All the inherited traits in human beings are not controlled by genes.

P.T.O.



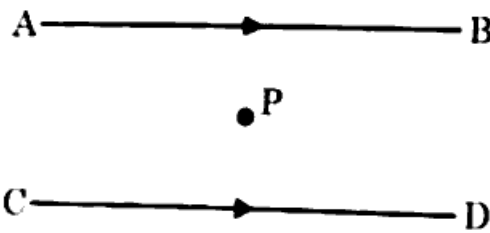
11. क्षुद्रांत्र के विषय में नीचे दिए गए कथनों पर विचार कीजिए और इनमें से उस कथन को चुनिए जो सही नहीं है :

- (a) जन्तुओं में क्षुद्रांत्र की लम्बाई भिन्न-भिन्न होती है क्योंकि यह उनके द्वारा खाए जाने वाले भोज्य पदार्थों के प्रकार पर निर्भर करती है ।
- (b) क्षुद्रांत्र भोज्य पदार्थों के पूर्ण पाचन का स्थल है ।
- (c) क्षुद्रांत्र लीवर (यकृत) और अग्न्याशय से स्रावण ग्रहण करती है ।
- (d) क्षुद्रांत्र के दीर्घरोम गुदा द्वारा शरीर से बाहर किए जाने से पूर्व बिना पचे भोजन से जल को अवशोषित कर लेते हैं ।

12. वह जीव जो भोज्य पदार्थों का विघटन शरीर के बाहर ही कर देता है और तब उसका अवशोषण करता है, कौन सा है ?

- (a) पादप परजीवी, अमरबेल
- (b) जन्तु परजीवी, फीताकृमि
- (c) जीवाणु, राइज़ोबियम
- (d) कवक, राइज़ोपस

13. दो समान्तर तारों, जो क्षैतिजतः स्थित हैं तथा जिनमें प्रत्येक से कोई स्थायी धारा I प्रवाहित हो रही है, के बीच में स्थित किसी बिन्दु 'P' पर परिणामी चुम्बकीय क्षेत्र



- (a) उसी दिशा में होता है जिसमें धारा प्रवाहित हो रही है ।
- (b) ऊर्ध्वाधर ऊपर की ओर होता है ।
- (c) शून्य होता है ।
- (d) ऊर्ध्वाधर नीचे की ओर होता है ।



11. Consider the following statements about small intestine and select the one which is NOT correct ;

1

- (a) The length of the small intestine in animals differs as it depends on the type of food they eat.
- (b) The small intestine is the site of complete digestion of food.
- (c) The small intestine receives secretions from liver and pancreas.
- (d) The villi of the small intestine absorb water from the unabsorbed food before it gets removed from the body via the anus.

12. An organism which breaks down the food material outside the body and then absorbs it is

1

- (a) a plant parasite, Cuscuta.
- (b) an animal parasite, Tapeworm.
- (c) a bacteria, Rhizobium.
- (d) a fungi, Rhizopus.

13. The resultant magnetic field at point 'P' situated midway between two parallel wires (placed horizontally) each carrying a steady current I is

1

A —————→ B

• P

C —————→ D

- (a) in the same direction as the current in the wires.
- (b) in the vertically upward direction.
- (c) zero
- (d) in the vertically downward direction.



14. किसी घर में 1500 W, 200 V की विद्युत इस्तरी और 500 W, 200 V की फ्लैश लाइट का उपयोग होता है। उपयोग किए जाने वाले विद्युत-फ्यूज का अनुमतांक होना चाहिए
- 5 A
 - 10 A
 - 15 A
 - 20 A
15. घरेलू विद्युत परिपथों में 15 A धारा अनुमतांक के तारों का उपयोग उन विद्युत युक्तियों के लिए होता है, जिनका
- उच्चतर शक्ति अनुमतांक होता है जैसे गीज़र।
 - निम्न शक्ति अनुमतांक होता है जैसे पंखा।
 - आवरण धात्विक तथा निम्न शक्ति अनुमतांक होता है।
 - आवरण अधात्विक तथा निम्न शक्ति अनुमतांक होता है।
16. चार सर्वसम प्रतिरोधकों जिसमें प्रत्येक का प्रतिरोध 8Ω है, को पहले श्रेणी में संयोजित किया गया है जिससे संयोजन का प्रभावी प्रतिरोध R_s है और फिर उन्हें पार्श्व में संयोजित किया है जिससे संयोजन का प्रभावी प्रतिरोध R_p है, तब अनुपात $\frac{R_s}{R_p}$ है
- 32
 - 2
 - 0.5
 - 16

प्रश्न संख्या 17 से 20 अभिकथन – कारण पर आधारित प्रश्न हैं :

इन प्रश्नों में दो कथन – अभिकथन (A) और कारण (R) दिए गए हैं। इन प्रश्नों के उत्तर नीचे दिए अनुसार उचित विकल्प को चुनकर दीजिए :

- (A) और (R) दोनों सही हैं तथा (R) द्वारा (A) की सही व्याख्या हो रही है।
- (A) और (R) दोनों सही हैं, परन्तु (R) द्वारा (A) की सही व्याख्या नहीं हो रही है।
- (A) सही है, परन्तु (R) गलत है।
- (A) गलत है, परन्तु (R) सही है।



14. An electric iron of 1500 W, 200 V and a flash light of 500 W, 200 V are used in homes. The rating of fuse to be used should be
- (a) 5 A (b) 10 A
(c) 15 A (d) 20 A
15. In domestic electric circuits the wiring with 15 A current rating is for the electric devices which have
- (a) higher power ratings such as geyser.
(b) lower power ratings such as fan.
(c) metallic bodies and low power ratings.
(d) non-metallic bodies and low power ratings.
16. If four identical resistors, of resistance 8 ohm, are first connected in series so as to give an effective resistance R_s , and then connected in parallel so as to give an effective resistance R_p , then the ratio $\frac{R_s}{R_p}$ is
- (a) 32 (b) 2
(c) 0.5 (d) 16

Q. No. 17 to 20 are Assertion – Reason based questions.

These consist of two statements – Assertion (A) and Reason (R). Answer these questions selecting the appropriate option given below :

- (a) Both (A) and (R) are true and (R) is the correct explanation of (A).
(b) Both (A) and (R) are true, but (R) is not the correct explanation of (A).
(c) (A) is true, but (R) is false.
(d) (A) is false, but (R) is true.



17. अधिकार्यन (A) : किसी धागवाही कुलाका कुलहनी के कन्ट या उत्पन्न बुम्बकीय क्षेत्र की नीम्नता में, कुलहनी में फेरी की संख्या में वृद्धि होने पर, वृद्धि हो जाती है।
- कारण (R) : कुलहनी के प्रत्येक फेरे में विद्युत धारा के प्रवाह की दिशा समान होती है अतः व्यक्तिगत फेरों के बुम्बकीय क्षेत्र संयोजित हो जाते हैं।
18. अधिकार्यन (A) : बीम्ब में होने वाले अवायवीय श्वसन में बनने वाले अन्तिम उत्पादों में एक उत्पाद कोई अम्ल होता है।
- कारण (R) : अवायवीय श्वसन के समय प्लूकोत्र का विघटन अपूर्ण होता है।
19. अधिकार्यन (A) : बनकों से वंशागत तीन शिशु का लिंग निर्धारित करते हैं।
- कारण (R) : नर शिशु में X गुणमय पिता से वंशागत होते हैं।
20. अधिकार्यन (A) : जब कॉपर सल्फेट के जलीय विलयन में लेड का कोई टुकड़ा डाला जाता है, तो विलयन रंगहीन हो जाता है।
- कारण (R) : कॉपर की तुलना में लेड अधिक अभिक्रियाशील है, अतः यह कॉपर को उसके लवण-विलयन से विस्थापित कर देता है।

उत्तर - सु

प्रश्न संख्या 21 से 26 अति लघु उत्तर प्रश्न हैं।

21. यह दर्जाने के लिए दो कारणों की सूची बनाइए कि किसी पारितंत्र में अपघटकों का विद्यमान होना आवश्यक है।

31/1/2



17. **Assertion (A) :** The strength of the magnetic field produced at the centre of a current carrying circular coil increases on increasing the number of turns in it.

1

Reason (R) : The current in each circular turn has the same direction and the magnetic field due to each turn then just adds up.

18. **Assertion (A) :** The anaerobic respiration which takes place in yeast, has one of the end products as an acid.

1

Reason (R) : During anaerobic respiration, there is incomplete breakdown of glucose.

19. **Assertion (A) :** Genes inherited from the parents decide the sex of a child.

1

Reason (R) : X chromosome in a male child is inherited from his father.

20. **Assertion (A) :** The colour of aqueous solution of copper sulphate turns colourless when a piece of lead is added to it.

1

Reason (R) : Lead is more reactive than copper, and hence displaces copper from its salt solution.

SECTION - B

Q. No. 21 to 26 are very short answer questions.

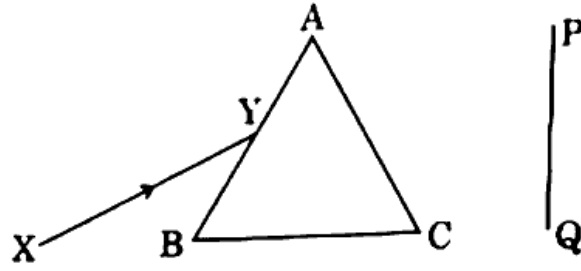
21. List two reasons to show that the existence of decomposers is essential in an ecosystem.

2

P.T.O.



22. (a) श्वेत प्रकाश का कोई पतला प्रकाश पुंज XY किसी काँच के प्रिज्म ABC से आरेख में दर्शाए अनुसार गुजर रहा है :



इसे अपनी उत्तर पुस्तिका पर खींचिए और पर्दे PQ पर दिखाई देने वाले निर्गत प्रकाश पुंज के पथ को दर्शाए ।

प्रेक्षण की जाने वाली परिघटना का नाम लिखिए और इसके कारण का उल्लेख कीजिए ।

अथवा

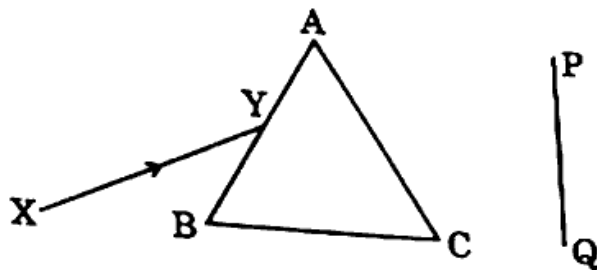
- (b) यह प्रेक्षण किया गया है कि आयु में वृद्धि होने पर नेत्रों की निकट की तथा दूर की वस्तुओं को स्पष्ट देख सकने की क्षमता घट जाती है ।
- उपरोक्त कथन के लिए कारण दीजिए ।
 - इस प्रकार की स्थिति में नेत्रों में होने वाले संभावित दोष का नाम लिखिए ।
 - इस प्रकार की दोषयुक्त नेत्र की दृष्टि के पुनः स्थापन के लिए उपयोग किए जाने वाले लेंस के प्रकार को दर्शाने के लिए नामांकित किरण आरेख खींचिए ।

23. मानव उत्सर्जन तंत्र के उस भाग का नाम लिखिए जिसमें वृक्काणु पाए जाते हैं । वृक्काणुओं की संरचना और उनका कार्य लिखिए ।

24. किसी चाकू को जिससे किसी फल को काटा गया था, तुरन्त ही उस जल में डुबोया गया जिसमें नीले लिटमस के विलयन की कुछ बूँदें घुली थीं । यदि इस विलयन का रंग लाल हो जाता है तो फल की प्रकृति के विषय में आप क्या निष्कर्ष निकाल सकते हैं और क्यों ?

25. घटनाओं के उस क्रम को लिखिए जो अन्तः श्वसन द्वारा किसी व्यक्ति की नाक से धूल के कणों के प्रवेश की अनुक्रिया को दर्शाता है ।

22. (a) A narrow beam XY of white light is passing through a glass prism ABC as shown in the diagram :



Trace it on your answer sheet and show the path of the emergent beam as observed on the screen PQ.

Name the phenomenon observed and state its cause.

OR

- (b) It is observed that the power of an eye to see nearby objects as well as far off objects diminishes with age.
- Give reason for the above statement.
 - Name the defect that is likely to arise in the eyes in such a condition.
 - Draw a labelled ray diagram to show the type of corrective lens used for restoring the vision of such an eye.
23. Name the part of the human excretory system where nephrons are found. Write the structure and function of nephrons.
24. A knife which is used to cut a fruit was immediately dipped into water containing drops of blue litmus solution. If the colour of the solution is changed to red, what inference can be drawn about the nature of the fruit and why ?
25. Write the sequence of events that involve response of a person when a dust particle is inhaled through the nose by him.



26. (a) (i) जिप्सम से बने किसी यौगिक 'X' में उचित मात्रा में पानी मिलाए जाने पर कठोर हो जाने का गुण है।

'X' को पहचान कर इसका रासायनिक सूत्र लिखिए।

- (ii) बेकिंग सोडा और बेकिंग पाउडर के रासायनिक संघटनों में अन्तर लिखिए।

अथवा

- (b) नीचे होने वाली अभिक्रियाओं के संतुलित रासायनिक समीकरण लिखिए :

- (i) जब कॉपर सल्फेट के नीले क्रिस्टलों को गर्म किया जाता है, तथा
(ii) भोजन पकाते समय जब सोडियम हाइड्रोजन कार्बोनेट को गर्म किया जाता है।

खण्ड - ग

प्रश्न संख्या 27 से 33 लघु उत्तर प्रश्न हैं।

27. (a) (i) किसी घरेलू बगीचे (किचन गार्डन) को कृत्रिम पारितंत्र क्यों कहा जाता है जबकि वन (जंगल) को प्राकृतिक पारितंत्र माना जाता है ?

- (ii) घर पर किसी कृत्रिम (मानव निर्मित) पारितंत्र की अभिकल्पना करते समय उन किन्हीं दो बातों का कारण सहित उल्लेख कीजिए जो उसे स्वनिर्वाह पारितंत्र में परिवर्तित कर सकते हैं।

अथवा

- (b) (i) निम्नलिखित को सम्मिलित करते हुए चार पोषी स्तरों की आहार शृंखला बनाइए :

बाज्र, सर्प, पौधे, चूहे

- (ii) उत्पादकों द्वारा दूसरे पोषी स्तर के जीवों के लिए 20,000 J ऊर्जा स्थानान्तरित की गयी है। ऊर्जा की उस मात्रा का परिकलन कीजिए जिसे तीसरे पोषी स्तर के जीवों द्वारा चौथे पोषी स्तर के जीवों के लिए स्थानान्तरित किया जाएगा।



- (a) (i) A compound 'X' which is prepared from gypsum has the property of hardening when mixed with proper quantity of water.

2

Identify 'X' and write its chemical formula.

- (ii) State the difference in chemical composition between baking soda and baking powder.

OR

- (b) Write balanced chemical equation for the reaction that occurs when :

2

(i) blue coloured copper sulphate crystals are heated and

(ii) Sodium hydrogen carbonate is heated during cooking.

SECTION - C

Q. No. 27 to 33 are short answer questions.

- (a) (i) Why does a kitchen garden called an artificial ecosystem while a forest is considered to be a natural ecosystem ?

3

- (ii) While designing an artificial ecosystem at home, write any two things to be kept in mind to convert it into a self-sustaining system. Give reason to justify your answer.

OR

- (b) (i) Construct a food chain of four trophic levels comprising the following :

Hawk, snake, plants, rat.

3

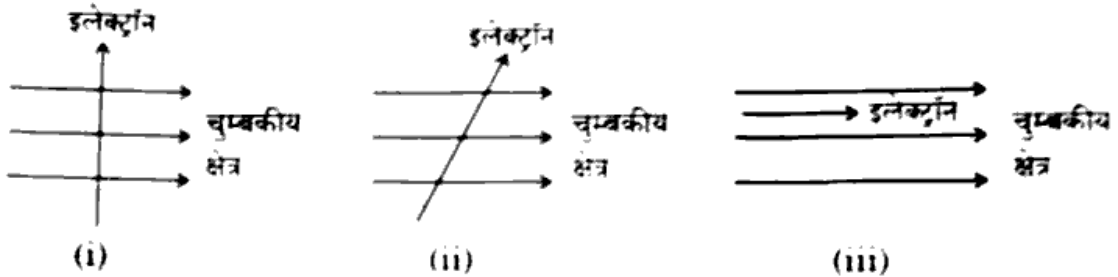
- (ii) 20,000 J of energy was transferred by the producers to the organism of second trophic level. Calculate the amount of energy that will be transferred by organisms of the third trophic level to the organisms of the fourth trophic level.



28. (a) (i) चुम्बकीय क्षेत्र में स्थित किसी धारावाही चालक पर लगने वाले बल की दिशा ज्ञान करने वाले नियम को लिखिए।

3

(ii) नीचे तीन आरेख दिए गए हैं जिनमें चुम्बकीय क्षेत्र में किसी इलेक्ट्रॉन को प्रवेश करने दिखाया गया है। इनमें से वह प्रकरण पहचानिए जिसमें इलेक्ट्रॉन पर लगने वाला बल क्रमशः (1) अधिकतम और (2) निम्नतम होगा। अपने उत्तरों के लिए कारण दीजिए।



अथवा

(b) (i) नीचे दिए गए प्रकरणों में चुम्बकीय क्षेत्र रेखाओं का पैटर्न खींचिए :

3

(1) धारावाही परिनालिका

(2) छड़ चुम्बक

(ii) इन दोनों चुम्बकीय क्षेत्रों के बीच दो विभेदनकारी लक्षणों की सूची बनाइए।

29. कोई व्यक्ति उस दृष्टि दोष से पीड़ित है जिसमें आँख का दूर बिन्दु अनन्त से कम दूरी पर होता है। इस दृष्टि दोष को पहचानिए। इस दोष के दो प्रमुख कारणों की सूची बनाइए।

किसी उपयुक्त लेंस का उपयोग करके इस दोष के संशोधन को दर्शाने के लिए किरण आरेख खींचिए।

3

30. (a) किसी लेंस द्वारा किसी बिम्ब का प्रतिबिम्ब बिम्ब के बराबर साइज का परन्तु उलटा बनता है। यदि बिम्ब-दूरी 30 cm है, तो परिकलित कीजिए :

(i) बिम्ब और प्रतिबिम्ब के बीच की दूरी

(ii) लेंस की फोकस दूरी

(b) उपरोक्त प्रकरण में प्रतिबिम्ब बनना दर्शाने के लिए किरण आरेख खींचिए।

31. (a) (i) कोशिकीय श्वसन में ATP की भूमिका का उल्लेख कीजिए।

(ii) पादपों में गैसों के पर्याप्त आदान-प्रदान को कौन सुनिश्चित करता है ?

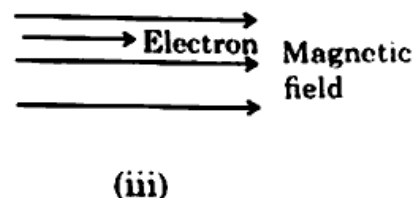
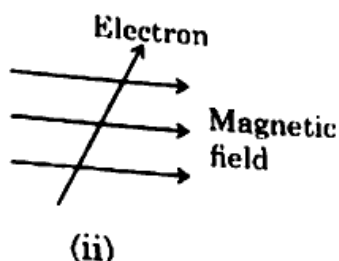
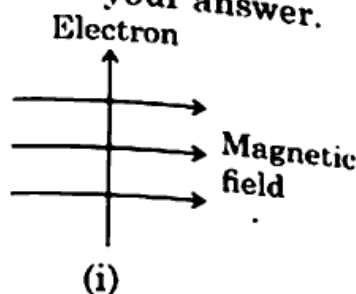
(iii) उन स्थितियों का उल्लेख कीजिए जिन पर पादपों में गैसों के विसरण की दिशा निर्भर करती है।

अथवा

(b) (i) पादपों और जन्तुओं में आन्तरिक ऊर्जा किस रूप में संचित होती है ?

(ii) मरुस्थली पादपों में यदि दिन के समय उनके रंग बन्द रहते हैं तो प्रकाश-संश्लेषण किस प्रकार होता है ?

28. (a) (i) State the rule used to find the force acting on a current carrying conductor placed in a magnetic field. 3
 (ii) Given below are three diagrams showing entry of an electron in a magnetic field. Identify the case in which the force will be (1) maximum and (2) minimum respectively. Give reason for your answer.



OR

- (b) (i) Draw the pattern of magnetic field lines of 3
 (1) a current carrying solenoid
 (2) a bar magnet
 (ii) List two distinguishing features between the two fields.

29. A person is suffering from an eye defect in which the far point of the eye is nearer than infinity. Identify the defect. List two main causes of this defect. 3

Draw a ray diagram to show how this defect is corrected by using a suitable lens.

30. (a) The image of an object formed by a lens is of same size but inverted. If the object distance is 30 cm, calculate 3

- (i) The distance between the object and its image.
 (ii) Focal length of the lens.

- (b) Draw a ray diagram to show the image formed in above case.

31. (a) (i) State the role of ATP in cellular respiration. 3
 (ii) What ensures sufficient exchange of gases in plants ?
 (iii) State the conditions on which the direction of diffusion of gases in plant depend upon.

OR

- (b) (i) What is the internal energy reserve in plants and animals ? 3
 (ii) How desert plants perform photosynthesis if their stomata remain closed during the day ?

P.T.O.



- 3.2 दाँतों के इनेमल का रासायनिक संघटन लिखिए। pH की किन स्थितियों में इसका संक्षारण आरम्भ हो जाता है। दाँत-क्षय के कारण की व्याख्या कीजिए और इसमें बचाव का एक उपाय सुझाइए। 3
- 3.3 (a) नीचे दी गयी अभिक्रियाओं में अपचायी एजेंट पहचानिए : 3
- (i) $4\text{NH}_3 + 5\text{O}_2 \rightarrow 4\text{NO} + 6\text{H}_2\text{O}$
- (ii) $\text{H}_2\text{O} + \text{F}_2 \rightarrow \text{HF} + \text{HOF}$
- (iii) $\text{Fe}_2\text{O}_3 + 3\text{CO} \rightarrow 2\text{Fe} + 3\text{CO}_2$
- (iv) $2\text{H}_2 + \text{O}_2 \rightarrow 2\text{H}_2\text{O}$
- (b) उपचयन-अपचयन (रेडॉक्स) अभिक्रिया की परिभाषा ऑक्सीजन की वृद्धि अथवा ह्रास के पदों में दीजिए।

खण्ड - घ

प्रश्न संख्या 34 से 36 दीर्घ उत्तर प्रश्न हैं।

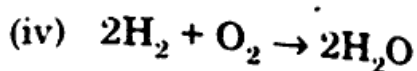
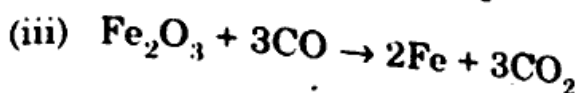
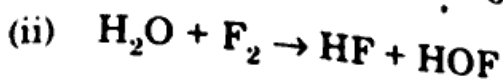
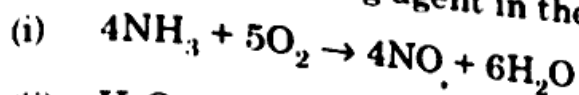
34. (a) किसी विद्युत इस्तरी में अधिकतम तापन दर के लिए 880 W की दर से ऊर्जा उपभुक्त होती है तथा 330 W की दर से उस समय उपभुक्त होती है जब तापन की दर निम्नतम है। यदि विद्युत स्रोत की वोल्टता 220 V है, तो दोनों प्रकरणों में विद्युत धारा तथा प्रतिरोध परिकलित कीजिए। 5
- (b) विद्युत धारा का तापन प्रभाव किसे कहते हैं ?
- (c) जब किसी प्रतिरोधक से कोई धारा कुछ समय के लिए प्रवाहित होती है, तो उत्पन्न ऊष्मा के लिए व्यंजक ज्ञात कीजिए।
35. (a) क्या होता है जब अण्ड का निषेचन नहीं होता है ? 5
- (b) शुक्राणु किस प्रकार आनुवंशिकतः मानव अण्ड से भिन्न होता है ?
- (c) परिवार नियोजन के लिए उपयोग की जाने वाली तीन गर्भ निरोधी विधियों के नाम लिखिए। उल्लेख कीजिए कि ये विधियाँ किस प्रकार कार्य करती हैं।

2. Write the chemical composition of tooth enamel. Under what conditions of pH it starts corroding? Explain the reason of tooth decay and suggest one method to prevent it.

3

3. (a) Identify the reducing agent in the following reactions :

3



- (b) Define a redox reaction in terms of gain or loss of oxygen.

SECTION - D

Q. No. 34 to 36 are long answer questions.

34. (a) An electric iron consumes energy at a rate of 880 W when heating is at the maximum rate and 330 W when the heating is at the minimum. If the source voltage is 220 V, calculate the current and resistance in each case.
- (b) What is heating effect of electric current?
- (c) Find an expression for the amount of heat produced when a current passes through a resistor for some time.

5

35. (a) What happens when the egg is not fertilised?
- (b) How is sperm genetically different from a human egg / ova?
- (c) List any three contraceptive methods practised for family planning. Mention how these methods work.

5



- 36 (a) कोई संतृप्त कार्बन यौगिक 'A' एल्कोहॉलों की ममज्रातीय श्रेणी का यौगिक है। यौगिक 'A' को सांद्र सल्फ्यूरिक अम्ल के साथ 443 K पर गर्म किया जाता है तो आण्विक द्रव्यमान 28 u का असंतृप्त यौगिक 'B' बनता है। यौगिक 'B' निकेल की उपस्थिति में हाइड्रोजन के एक मोल के संकलन द्वारा संतृप्त हाइड्रोकार्बन 'C' में परिवर्तित हो जाता है।

- A, B और C की पहचान कीजिए।
- A से B में परिवर्तन को दर्शाने के लिए रासायनिक समीकरण लिखिए।
- क्या होता है जब यौगिक C का दहन किया जाता है?
- हाइड्रोजनीकरण अभिक्रिया का एक औद्योगिक अनुप्रयोग लिखिए।
- यौगिक A की सोडियम से अभिक्रिया द्वारा बनने वाले उत्पाद का नाम लिखिए।

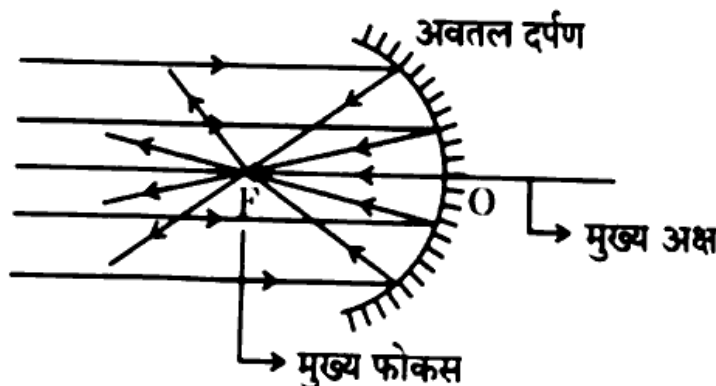
अथवा

- आरेख की सहायता से तैलीय धूल पर साबुन लगाने पर मिसेल बनना दर्शाइए।
- दो परखनलियाँ X और Y लेकर प्रत्येक में 10 mL कठोर जल भरिए। परखनली 'X' में साबुन के घोल की कुछ बूँदें मिलाइए तथा परखनली 'Y' में अपमार्जक (डिटर्जेंट) के घोल की कुछ बूँदें मिलाइए। दोनों परखनलियों को बराबर समय तक हिलाइए।
 - किस परखनली में अधिक झाग बनेंगे और क्यों?
 - किस परखनली में दही जैसा ठोस पदार्थ बनता है और क्यों?

खण्ड - ड

प्रश्न संख्या 37 से 39 प्रकरण आधारित / सामग्री आधारित प्रश्न हैं, जिनमें 2 से 3 लघु उप-भाग हैं। इनमें से एक उप-भाग में आन्तरिक चयन प्रदान किया गया है।

37. किसी अवतल दर्पण को अपने हाथ में पकड़िए तथा इसके परावर्तक पृष्ठ को सूर्य की ओर कीजिए। दर्पण द्वारा परावर्तित प्रकाश को दर्पण के पास रखे सफेद कार्डबोर्ड पर डालिए। कार्डबोर्ड को धीरे-धीरे आगे-पीछे कीजिए जब तक कि आपको कार्डबोर्ड पर प्रकाश का एक चमकदार तीक्ष्ण बिन्दु प्राप्त न हो जाए। यह तीक्ष्ण बिन्दु सूर्य का कार्डबोर्ड पर बना प्रतिबिम्ब है, जिसे अवतल दर्पण का 'मुख्य फोकस' भी कहते हैं।



- 30
- (a) A saturated organic compound 'A' belongs to the homologous series of alcohols. On heating 'A' with concentrated sulphuric acid at 443 K, it forms an unsaturated compound 'B' with molecular mass 28 u. The compound 'B' on addition of one mole of hydrogen in the presence of Nickel, changes to a saturated hydrocarbon 'C'.
- Identify A, B and C.
 - Write the chemical equations showing the conversion of A into B.
 - What happens when compound C undergoes combustion?
 - State one industrial application of hydrogenation reaction.
 - Name the products formed when compound A reacts with sodium.

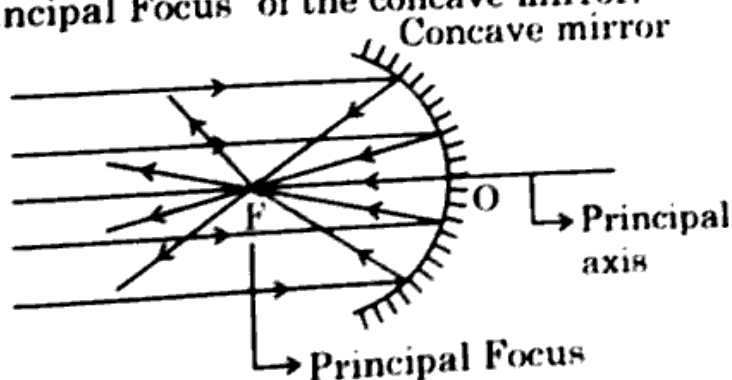
OR

- (b) (i) With the help of diagram, show the formation of micelles, when soap is applied on oily dirt. <https://www.cbseboardonline.com>
- (ii) Take two test tubes X and Y with 10 mL of hard water in each. In test tube 'X', add few drops of soap solution and in test tube 'Y' add a few drops of detergent solution. Shake both the test tubes for the same period.
- In which test tube the formation of foam will be more? Why?
 - In which test tube is a curdy solid formed? Why?

SECTION - E

Q. No. 37 to 39 are case based / data based questions with 2 to 3 short sub-parts. Internal choice is provided in one of these sub-parts.

37. Hold a concave mirror in your hand and direct its reflecting surface towards the sun. Direct the light reflected by the mirror on to a white card-board held close to the mirror. Move the card-board back and forth gradually until you find a bright, sharp spot of light on the board. This spot of light is the image of the sun on the sheet of paper; which is also termed as "Principal Focus" of the concave mirror.





- (a) अवतल दर्पण के दो अनुप्रयोगों की मूची बनाइए । 1
- (b) यदि दर्पण और मुख्य फोकस के बीच की दूरी 15 cm है, तो दर्पण की वक्रता त्रिज्या ज्ञात कीजिए । 1
- (c) किसी अवतल दर्पण के ध्रुव और फोकस के बीच स्थित किसी बिम्ब के दर्पण द्वारा बने प्रतिबिम्ब के प्रकार को दर्शाने के लिए किरण आरेख खींचिए । 2

अथवा

- (c) 10 cm साइज का कोई बिम्ब किसी अवतल दर्पण के सामने 100 cm दूरी पर स्थित है । यदि बिम्ब का प्रतिबिम्ब उसी स्थान पर बनता है जहाँ बिम्ब स्थित है, तो 2
- (i) दर्पण की फोकस दूरी ज्ञात कीजिए, तथा
- (ii) कार्तीय चिह्न परिपाटी के अनुसार बनने वाले प्रतिबिम्ब का आवर्धन ज्ञात कीजिए ।

38. लक्षणों की वंशागति की खोज करने के लिए मेण्डल ने मटर के ऐसे पौधों के बीच संकरण कराया जिनमें एक अथवा दो विपर्यासी लक्षणों के युगल थे । जब उन्होंने गोल और पीले बीजों वाले मटर के पौधों का झुर्रीदार और हरे बीजों वाले मटर के पौधों के साथ संकरण कराया तो प्रेक्षण करने पर उन्होंने यह पाया कि F_1 संतति के पौधों में झुर्रीदार व हरे बीजों वाले पौधे नहीं थे । जब F_1 संतति के पौधों का स्व-परागण कराया गया तो F_2 संतति के पौधों में बीजों की आकृति और रंग के विभिन्न संयोजन भी प्राप्त हुए ।

- (a) उपरोक्त विपर्यासी लक्षणों के अतिरिक्त मेंडल द्वारा अपने प्रयोगों में उपयोग किए मटर पौधे के किन्हीं अन्य दो विपर्यासी लक्षणों को लिखिए । 1
- (b) प्रभावी और अप्रभावी लक्षणों के बीच विभेदन कीजिए । 1
- (c) उपरोक्त प्रकरण में F_2 संतति के बीजों में पाए गए विभिन्न संयोजनों का अनुपात लिखिए । इस परिणाम की विवेचना कीजिए । 2

अथवा

- (c) नीचे शुद्ध बैंगनी पुष्पों वाले मटर के पौधों (V) और शुद्ध श्वेत पुष्पों वाले मटर के पौधों (v) के बीच संकरण दिया गया है । प्रवाह आरेख द्वारा F_1 और F_2 में प्राप्त संततियों के प्रकार की व्याख्या कीजिए :

शुद्ध बैंगनी पुष्पों वाले पौधे × शुद्ध श्वेत पुष्पों वाले पौधे
(VV) (vv)

2



- (a) List two applications of concave mirror. 1
- (b) If the distance between the mirror and the principal focus is 15 cm, find the radius of curvature of the mirror. 1
- (c) Draw a ray diagram to show the type of image formed when an object is placed between pole and focus of a concave mirror. 2

OR

- (c) An object 10 cm in size is placed at 100 cm in front of a concave mirror. If its image is formed at the same point where the object is located, find : 2
- (i) focal length of the mirror, and
- (ii) magnification of the image formed with sign as per Cartesian sign convention.

In order to trace the inheritance of traits Mendel crossed pea plants having one contrasting character or a pair of contrasting characters. When he crossed pea plants having round and yellow seeds with pea plants having wrinkled and green seeds, he observed that no plants with wrinkled and green seeds were obtained in the F_1 generation. When the F_1 generation pea plants were cross-bred by self-pollination, the F_2 generation had seeds with different combinations of shape and colour also.

- (a) Write any two pairs of contrasting characteristics of pea plant used by Mendel other than those mentioned above. 1
- (b) Differentiate between dominant and recessive traits. 1
- (c) State the ratio of the combinations observed in the seeds of F_2 generation (in the above case). What do you interpret from this result ? :

OR

- 1) Given below is a cross between a pure violet flowered pea plant (V) and a pure white flowered pea plant (v). Diagrammatically explain what type of progeny is obtained in F_1 generation and F_2 generation :

Pure violet flowered plant \times Pure white flowered plant.

(V V)

(v v)

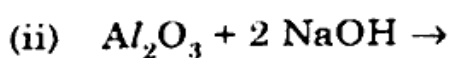
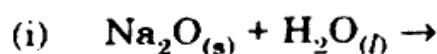


39. लगभग सभी धातुएँ ऑक्सीजन से संयोग करके धातु के ऑक्साइड बनाती हैं। धातुओं के ऑक्साइडों की प्रकृति सामान्यतः क्षारकीय होती है, परन्तु कुछ धातुओं के ऑक्साइड क्षारकीय के साथ-साथ अम्लीय व्यवहार भी दर्शाते हैं। विभिन्न धातुओं की ऑक्सीजन के साथ अभिक्रियाशीलता भिन्न होती है। कुछ धातुएँ ऑक्सीजन के साथ बहुत तेज़ी से अभिक्रिया करती हैं जबकि कुछ कोई अभिक्रिया नहीं करती हैं।

(a) क्या होता है जब कॉपर को वायु में गर्म किया जाता है ? (अभिक्रिया का रासायनिक समीकरण दीजिए।)

(b) कुछ धातुओं के ऑक्साइडों को उभयधर्मी की श्रेणी में क्यों रखा जाता है ? एक उदाहरण दीजिए।

(c) नीचे दिए गए समीकरणों को पूरा कीजिए :



अथवा

(c) सल्फर का ऑक्सीजन में दहन करने पर कोई रंगहीन गैस उत्पन्न होती है।

(i) अभिक्रिया का रासायनिक समीकरण लिखिए।

(ii) बनने वाली गैस का नाम लिखिए।

(iii) इस गैस की प्रकृति लिखिए।

(iv) इस गैस की शुष्क लिटमस पत्र पर क्या क्रिया होगी ?



39. Almost all metals combine with oxygen to form metal oxides. Metal oxides are generally basic in nature. But some metal oxides show both basic as well as acidic behaviour. Different metals show different reactivities towards oxygen. Some react vigorously while some do not react at all.
- (a) What happens when copper is heated in air ? (Give the equation of the reaction involved).
- (b) Why are some metal oxides categorized as amphoteric ? Give one example.
- (c) Complete the following equations :
- (i) $\text{Na}_2\text{O}_{(s)} + \text{H}_2\text{O}_{(l)} \rightarrow$
- (ii) $\text{Al}_2\text{O}_3 + 2 \text{NaOH} \rightarrow$

OR

- (c) On burning Sulphur in oxygen a colourless gas is produced.
- (i) Write chemical equation for the reaction.
- (ii) Name the gas formed.
- (iii) State the nature of the gas.
- (iv) What will be the action of this on a dry litmus paper ?
-

<https://www.cbseboardonline.com>

Whatsapp @ 9300930012

Send your old paper & get 10/-

अपने पुराने पेपर्स भेजे और 10 रुपये पायें,

Paytm or Google Pay से