

ਰੋਲ ਨੰਬਰ

--	--	--	--	--	--	--

Candidates must write the Code on the title page of the answer-book.

- ਕਿਰਪਾ ਕਰਕੇ ਨਿਰੀਖਣ ਕਰ ਲਵੋ ਕਿ ਇਸ ਪ੍ਰਸ਼ਨ ਪੱਤਰ ਵਿਚ ਛਪੇ ਹੋਏ 8 ਪੰਨੇ ਹਨ ।
- ਪ੍ਰਸ਼ਨ ਪੱਤਰ ਦੇ ਉੱਪਰ ਸੱਜੇ ਹੱਥ ਦਿੱਤੇ ਕੋਡ ਨੰ. ਨੂੰ ਪ੍ਰੀਖਿਆਰਥੀ ਉੱਤਰ ਪੁਸਤਿਕਾ ਦੇ ਮੁੱਖ ਪੰਨੇ ਤੇ ਜ਼ਰੂਰ ਲਿੱਖਣ ।
- ਕਿਰਪਾ ਕਰਕੇ ਦੇਖ ਲਵੋ ਕਿ ਇਸ ਪ੍ਰਸ਼ਨ ਪੱਤਰ ਵਿੱਚ 36 ਪ੍ਰਸ਼ਨ ਹਨ ।
- ਕਿਰਪਾ ਕਰਕੇ ਉੱਤਰ ਲਿਖਣਾ ਸ਼ੁਰੂ ਕਰਨ ਤੋਂ ਪਹਿਲਾਂ ਦਾ ਕ੍ਰਮਾਂਕ (ਸੀਰੀਅਲ ਨੰਬਰ) ਜ਼ਰੂਰ ਲਿੱਖੋ ।
- ਇਸ ਪ੍ਰਸ਼ਨ ਪੱਤਰ ਨੂੰ ਪੜ੍ਹਨ ਦੇ ਲਈ 15 ਮਿੰਟ ਦਾ ਸਮਾਂ ਦਿੱਤਾ ਗਿਆ ਹੈ । ਪ੍ਰਸ਼ਨ ਪੱਤਰ ਸਵੇਰੇ 10.15 ਵਜੇ ਵੰਡੇ ਜਾਣਗੇ । 10.15 ਵਜੇ ਤੋਂ 10.30 ਵਜੇ ਤੱਕ ਪ੍ਰੀਖਿਆਰਥੀ ਕੇਵਲ ਪ੍ਰਸ਼ਨ ਪੱਤਰ ਨੂੰ ਪੜ੍ਹਨਗੇ ਅਤੇ ਇਸ ਸਮੇਂ ਵਿੱਚ ਉਹ ਉੱਤਰ ਪੁਸਤਿਕਾ ਵਿੱਚ ਕੋਈ ਉੱਤਰ ਨਹੀਂ ਲਿਖਣਗੇ ।
- Please check that this question paper contains 8 printed pages.
- Code number given on the right hand side of the question paper should be written on the title page of the answer-book by the candidate.
- Please check that this question paper contains 36 questions.
- **Please write down the Serial Number of the question before attempting it.**
- 15 minute time has been allotted to read this question paper. The question paper will be distributed at 10.15 a.m. From 10.15 a.m. to 10.30 a.m., the students will read the question paper only and will not write any answer on the answer-book during this period.

**ਵਿਗਿਆਨ**  
(ਪੰਜਾਬੀ ਉਲਥਾ)  
**SCIENCE**  
(Punjabi Version)

ਸਮਾਂ ਸੀਮਾਂ : 3 ਘੰਟੇ  
Time allowed : 3 hours

ਪੂਰਨ ਅੰਕ : 90  
Maximum Marks : 90

**ਵਿਆਪਕ ਨਿਰਦੇਸ਼ :**

- ਇਸ ਪ੍ਰਸ਼ਨ ਪੱਤਰ ਨੂੰ ਦੋ ਭਾਗਾਂ, ਭਾਗ ਅ ਅਤੇ ਭਾਗ ਬ ਵਿੱਚ ਵੰਡਿਆ ਗਿਆ ਹੈ । ਆਪਣੇ ਦੋਹਾਂ ਭਾਗਾਂ ਦੇ ਸਾਰੇ ਪ੍ਰਸ਼ਨਾਂ ਦੇ ਉੱਤਰ ਲਿਖਣੇ ਹਨ ।
- ਸਾਰੇ ਪ੍ਰਸ਼ਨ ਹੱਲ ਕਰਨੇ ਜ਼ਰੂਰੀ ਹਨ ।

- (iii) ਪੂਰੇ ਪ੍ਰਸ਼ਨ ਪੱਤਰ ਵਿੱਚ ਕਿਸੇ ਵੀ ਪ੍ਰਸ਼ਨ ਵਿੱਚ ਕੋਈ ਚੋਣ ਨਹੀਂ ਹੈ ।
- (iv) ਤੁਸੀਂ ਭਾਗ ਅ ਅਤੇ ਭਾਗ ਬ ਦੇ ਸਾਰੇ ਪ੍ਰਸ਼ਨਾਂ ਦੇ ਉੱਤਰ ਵੱਖੋ-ਵੱਖ ਭਾਗ ਦੇ ਆਧਾਰ ਤੇ ਲਿਖਣੇ ਹਨ ।
- (v) ਭਾਗ ਅ ਦੇ ਪ੍ਰਸ਼ਨ ਸੰਖਿਆ 1 ਤੋਂ 3 ਤੱਕ ਦੇ ਪ੍ਰਸ਼ਨ ਇੱਕ-ਇੱਕ ਅੰਕ ਦੇ ਹਨ । ਇਹਨਾਂ ਦੇ ਉੱਤਰ ਕੇਵਲ ਇੱਕ ਵਾਕ ਵਿੱਚ ਦੇਣੇ ਹਨ ।
- (vi) ਭਾਗ ਅ ਦੇ ਪ੍ਰਸ਼ਨ ਸੰਖਿਆ 4 ਤੋਂ 6 ਤੱਕ ਦੇ ਪ੍ਰਸ਼ਨ ਦੋ-ਦੋ ਅੰਕਾਂ ਦੇ ਹਨ । ਇਹਨਾਂ ਦੇ ਉੱਤਰ ਲਗਭਗ 30 ਸ਼ਬਦਾਂ ਵਿੱਚ ਦੇਣੇ ਹਨ ।
- (vii) ਭਾਗ ਅ ਦੇ ਪ੍ਰਸ਼ਨ ਸੰਖਿਆ 7 ਤੋਂ 18 ਤੱਕ ਦੇ ਪ੍ਰਸ਼ਨ ਤਿੰਨ-ਤਿੰਨ ਅੰਕਾਂ ਦੇ ਹਨ । ਇਹਨਾਂ ਦੇ ਉੱਤਰ ਲਗਭਗ 50 ਸ਼ਬਦਾਂ ਵਿੱਚ ਦੇਣੇ ਹਨ ।
- (viii) ਭਾਗ ਅ ਦੇ ਪ੍ਰਸ਼ਨ ਸੰਖਿਆ 19 ਤੋਂ 24 ਤੱਕ ਦੇ ਪ੍ਰਸ਼ਨ ਪੰਜ-ਪੰਜ ਅੰਕਾਂ ਦੇ ਹਨ । ਇਹਨਾਂ ਦੇ ਉੱਤਰ ਲਗਭਗ 70 ਸ਼ਬਦਾਂ ਵਿੱਚ ਦੇਣੇ ਹਨ ।
- (ix) ਭਾਗ ਬ ਦੇ ਪ੍ਰਸ਼ਨ ਸੰਖਿਆ 25 ਤੋਂ 33 ਤੱਕ ਦੇ ਪ੍ਰਸ਼ਨ ਪ੍ਰਯੋਗਾਤਮਕ ਕੌਸ਼ਲ ਤੇ ਅਧਾਰਿਤ ਬਹੁ-ਵਿਕਲਪੀ ਪ੍ਰਸ਼ਨ ਹਨ । ਹਰ ਇੱਕ ਪ੍ਰਸ਼ਨ ਇੱਕ ਅੰਕ ਦਾ ਹੈ । ਦਿੱਤੇ ਹੋਏ ਚਾਰ ਵਿਕਲਪਾਂ ਵਿੱਚੋਂ ਤੁਸੀਂ ਕੇਵਲ ਇੱਕ ਸਭ ਤੋਂ ਢੁਕਵਾਂ ਵਿਕਲਪ ਚੁਣਨਾ ਹੈ ।
- (x) ਭਾਗ ਬ ਦੇ ਪ੍ਰਸ਼ਨ ਸੰਖਿਆ 34 ਤੋਂ 36 ਦੇ ਪ੍ਰਸ਼ਨ ਪ੍ਰਯੋਗਾਤਮਕ ਕੌਸ਼ਲ ਤੇ ਅਧਾਰਿਤ ਦੋ-ਦੋ ਅੰਕਾਂ ਦੇ ਹਨ । ਇਹਨਾਂ ਦੇ ਉੱਤਰ ਸੰਖੇਪ ਵਿੱਚ ਦਿਓ ।

#### ਭਾਗ – ਅ

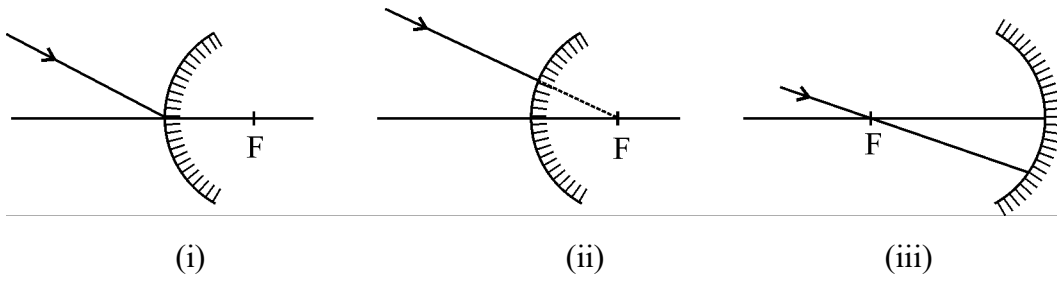
#### Section – A

1. ਆਧੁਨਿਕ ਆਵਰਤੀ ਸਾਰਨੀ ਵਿਚ ਕਿਤਨੀਆਂ ਖਿਤੀਜੀ ਕਤਾਰਾਂ ਹਨ ? ਇਨ੍ਹਾਂ ਕਤਾਰਾਂ ਨੂੰ ਕੀ ਕਹਿੰਦੇ ਹਨ ? 1
2. ਓਜ਼ੋਨ ਪੱਟੀ ਦਾ ਪਤਲਾ ਹੋਣਾ ਚਿੰਤਾ ਦਾ ਵਿਸ਼ਾ ਕਿਉਂ ਹੈ ? 1
3. ਕਿਸੇ ਲੈਨੱਜ ਦੀ ਫੋਕਸ ਦੂਰੀ + 25 ਸੈ:ਮੀ: ਹੈ । ਇਸ ਲੈਨੱਜ ਦੀ ਸ਼ਕਤੀ ਲਿਖੋ । 1
4. ਸੰਖੇਪ ਵਿਚ ਵਰਨਨ ਕਰੋ ਕਿ ਪਲੇਨੇਰੀਆ ਵਿਚ ਪੁਨਰਜਣਨ ਦੀ ਪ੍ਰਕਿਰਿਆ ਕਿਵੇਂ ਪੂਰੀ ਹੁੰਦੀ ਹੈ ? 2
5. ਅਪਾਰਜਿਤ ਲੱਛਣਾ ਅਤੇ ਅਨੁਵੰਸ਼ਿਕ ਲੱਛਣਾਂ ਦੇ ਵਿਚਕਾਰ ਅੰਤਰ ਸਪਸ਼ਟ ਕਰਨ ਵਾਲੀਆਂ ਕਿਸੇ ਦੋ ਵਿਸ਼ੇਸ਼ਤਾਵਾਂ ਦੀ ਸਾਰਨੀ ਦੇ ਰੂਪ ਵਿਚ ਸੂਚੀ ਬਣਾਓ । 2
6. ਤੁਸੀਂ ਕੂੜੇ ਕਰਕਟ ਦੇ ਨਿਬਟਾਰੇ ਦੀ ਸਮਸਿਆ ਨੂੰ ਘਟ ਕਰਨ ਦੇ ਲਈ ਕਿਵੇਂ ਹਿੱਸਾ ਪਾ ਸਕਦੇ ਹੋ ? ਕਿਸੇ ਦੋ ਉਪਾਵਾਂ ਦਾ ਵਰਨਨ ਕਰੋ । 2

7. ਹੇਠ ਦਿੱਤੀਆਂ ਗਈਆਂ ਰਸਾਇਨਿਕ ਸਮੀਕਰਣਾਂ ਨੂੰ ਪੂਰਾ ਕਰੋ : 3
- (i)  $\text{CH}_3\text{COOH} + \text{Na}_2\text{CO}_3 \longrightarrow$
- (ii)  $\text{CH}_3\text{COOH} + \text{NaOH} \longrightarrow$
- (iii)  $\text{CH}_3\text{COOC}_2\text{H}_5 + \text{NaOH} \longrightarrow$
8. ਈਥਾਨੋਇਕ ਐਸਿਡ, ਸੰਘਣੇ  $\text{H}_2\text{SO}_4$  ਦੀ ਮੌਜੂਦਗੀ ਵਿਚ ਸ਼ੁੱਧ ਈਥੇਨੋਲ ਨਾਲ ਕਿਰਿਆ ਕਰਕੇ ਕੋਈ ਯੋਗਿਕ ਬਣਾਂਦਾ ਹੈ। 3
- (i) ਇਸ ਯੋਗਿਕ ਦੇ ਵਰਗ (ਗਰੁਪ) ਦਾ ਨਾਮ ਅਤੇ ਇਸਦੀ ਗੰਧ (ਬੋ) ਦਾ ਵਰਨਨ ਕਰੋ।
- (ii) ਇਸ ਕਿਰਿਆ ਦੀ ਰਸਾਇਣਿਕ ਸਮੀਕਰਣ ਲਿੱਖੋ ਅਤੇ ਇਸ ਵਿਚ ਸੰਘਣੇ  $\text{H}_2\text{SO}_4$  ਦੀ ਭੂਮਿਕਾ ਦਾ ਵਰਨਨ ਕਰੋ।
- (iii) ਇਸ ਕਿਰਿਆ ਦੇ ਉਤਪਾਦ ਦਾ ਕੋਈ ਇਕ ਉਪਯੋਗ ਲਿੱਖੋ।
9. ਹੇਠ ਦਿੱਤੇ ਗਏ ਤੱਤਾਂ (ਜਿਨ੍ਹਾਂ ਦੇ ਪਰਮਾਣੂ ਅੰਕ ਬਰੈਕਟਾਂ ਵਿਚ ਲਿੱਖੇ ਗਏ ਹਨ) ਉਪਰ ਵਿਚਾਰ ਕਰੋ : 3
- Ca(20); K(19); F(9); Be(4)
- (a) ਇਨ੍ਹਾਂ ਵਿੱਚੋਂ
- (i) ਉਸ ਤੱਤ ਨੂੰ ਚੁਣੋ ਜਿਸਦੇ ਸਭ ਤੋਂ ਬਾਹਰਲੇ ਸ਼ੈੱਲ ਵਿਚ ਇਕ ਇਲੈਕਟਰਾਨ ਹੈ।
- (ii) ਉਹ ਤੱਤ ਚੁਣੋ ਜੋ ਇਕ ਹੀ ਗਰੁਪ ਦੇ ਹਨ। ਇਸ ਸਮੂਹ ਦੀ ਸੰਖਿਆ ਲਿੱਖੋ।
- (b) ਤੱਤ Ca(20) ਅਤੇ ਤੱਤ X(2, 8, 7) ਦੇ ਸੰਜੋਗ ਨਾਲ ਬਣੇ ਯੋਗਿਕ ਦਾ ਸੂਤਰ ਲਿੱਖੋ। 3
10. ਕੋਈ ਤੱਤ 'X' ਜਿਸਦੀ ਇਲੈਕਟ੍ਰਾਨੀ ਤੁਰਤੀਬ (2, 8, 2) ਹੈ, ਦੋ ਮੂਲਕਾਂ (radicals)  $(\text{NO}_3)^-$  ਅਤੇ  $(\text{SO}_4)^{2-}$  ਦੇ ਨਾਲ ਅਲਗ ਅਲਗ ਸੰਜੋਗ ਕਰਦਾ ਹੈ। 3
- (i) ਤੱਤ 'X' ਧਾਤ ਹੈ ਜਾਂ ਅਧਾਤ? ਇਸਦੇ ਆਕਸਾਈਡ ਦੀ ਪਰਕਿਰਤੀ ਲਿੱਖੋ।
- (ii) ਇਨ੍ਹਾਂ ਮੂਲਕਾਂ ਦੇ ਸੰਜੋਗ ਨਾਲ ਬਣੇ 'X' ਦੇ ਯੋਗਿਕਾਂ ਦੇ ਸੂਤਰ ਲਿੱਖੋ? ਇਹ ਸਹ ਸੰਜੋਗੀ ਯੋਗਿਕ ਹਨ ਜਾਂ ਆਇਨੀ ਯੋਗਿਕ? 3
11. ਪ੍ਰਕਾਸ਼ ਦੇ ਵਾਯੂਮੰਡਲੀ ਅਪਵਰਤਨ ਦਾ ਮੁੱਖ ਕਾਰਨ ਲਿੱਖੋ। ਚਿੱਤਰ ਦੀ ਸਹਾਇਤਾ ਨਾਲ ਤਾਰਿਆਂ ਦੇ ਟਿਮਟਿਮਾਉਣ ਦੀ ਪਰਿਘਟਨਾ ਦੀ ਵਿਆਖਿਆ ਕਰੋ। 3
12. ਉਸ ਮਨੁੱਖ ਦੇ ਦ੍ਰਿਸ਼ਟੀ ਦੋਸ਼ ਦਾ ਨਾਮ ਲਿੱਖੋ ਜਿਹੜਾ ਆਪਣੇ ਦੋਸ਼ ਦੇ ਸੰਸ਼ੋਧਨ ਦੇ ਲਈ ਉਤੱਲ ਲੈਨਜ਼ਾਂ ਦੇ ਚਸ਼ਮੇ ਦੀ ਵਰਤੋਂ ਕਰਦਾ ਹੈ। ਜੇਕਰ ਇਨ੍ਹਾਂ ਲੈਨਜ਼ਾਂ ਦੇ ਸ਼ਕਤੀ +0.5 D ਹੈ, ਤਾਂ ਇਨ੍ਹਾਂ ਲੈਨਜ਼ਾ ਫੋਕਸ ਦੂਰੀ ਪਤਾ ਕਰੋ। 3

13. ਹੇਠ ਦਿੱਤੇ ਗਏ ਹਰ ਇਕ ਚਿੱਤਰ ਨੂੰ ਆਪਣੀ ਉੱਤਰ ਪੁਸਤਕ ਵਿਚ ਬਣਾਓ ਅਤੇ ਹਰ ਇਕ ਸਥਿਤੀ ਵਿਚ ਪਰਾਵਰਤਨ ਤੋਂ ਪਿੱਛੋਂ ਦੇ ਕਿਰਨ ਦੇ ਪੱਥ ਨੂੰ ਦਰਸਾਓ :

3



14. ਪ੍ਰਕਾਸ਼ ਦੇ ਅਪਵਰਤਨ ਦਾ ਸਨੈੱਲ ਦਾ ਨਿਯਮ ਲਿਖੋ । ਇਸ ਨੂੰ ਗਣਿਤ ਦੀ ਭਾਸ਼ਾ ਵਿਚ ਲਿਖੋ । ਕਿਸੇ ਮਾਧਿਅਮ ਦੇ ਨਿਰਪੇਖ ਅਪਵਰਤਨ ਅੰਕ ਅਤੇ ਨਿਰਵਾਯੂ ਵਿਚ ਪ੍ਰਕਾਸ਼ ਦੀ ਚਾਲ ਦੇ ਦਰਮਿਆਨ ਸੰਬੰਧ ਲਿਖੋ ।

3

15. ਜੇਕਰ ਅਸੀਂ ਸ਼ੁੱਧ ਪ੍ਰਜਾਤੀ ਦੇ ਲੰਬੇ ਪ੍ਰਭਾਵੀ ਜਾਂ (ਹਾਵੀ) ਮਟਰ ਦੇ ਪੌਦਿਆਂ ਨੂੰ ਸੁਧ ਪ੍ਰਜਾਤੀ ਦੇ ਬੌਨੇ (ਅਪ੍ਰਭਾਵੀ) ਪੌਦਿਆਂ ਦੇ ਨਾਲ ਦੌਗਲਾ ਕਰਵਾਈਏ ਤਾਂ ਸਾਨੂੰ  $F_1$  ਪੀੜ੍ਹੀ ਦੇ ਮਟਰ ਦੇ ਪੌਦੇ ਪ੍ਰਾਪਤ ਹੋਣਗੇ । ਹੁਣ ਜਦੋਂ  $F_1$  ਪੀੜ੍ਹੀ ਦੇ ਪੌਦਿਆਂ ਦੇ ਦਰਮਿਆਨ ਦੌਗਲਾ ਕਰਵਾਇਆ ਜਾਏ, ਤਾਂ ਸਾਨੂੰ  $F_2$  ਪੀੜ੍ਹੀ ਦੇ ਪੌਦੇ ਪ੍ਰਾਪਤ ਹੁੰਦੇ ਹਨ ।

- $F_1$  ਪੀੜ੍ਹੀ ਦੇ ਪੌਦੇ ਕਿਹੋ ਜਹੇ ਦਿਖਾਈ ਦਿੰਦੇ ਹਨ ?
- $F_2$  ਪੀੜ੍ਹੀ ਵਿਚ ਲੰਬੇ ਅਤੇ ਬੌਨੇ ਪੌਦਿਆਂ ਵਿਚ ਅਨੁਪਾਤ ਲਿਖੋ ।
- ਉਨ੍ਹਾਂ ਪੌਦਿਆਂ ਦਾ ਪ੍ਰਕਾਰ ਲਿਖੋ ਜਿਹੜੇ  $F_1$  ਪੀੜ੍ਹੀ ਵਿਚ ਨਹੀਂ ਸਨ, ਪਰ  $F_2$  ਪੀੜ੍ਹੀ ਵਿਚ ਦਿਖਾਈ ਦਿੱਤੇ । ਅਜੇਹਾ ਹੋਣ ਦਾ ਕਾਰਨ ਲਿਖੋ ।

3

16. ਸਮਜਾਤ ਅੰਗ ਕੀ ਹਨ ? ਇਨ੍ਹਾਂ ਦਾ ਕੋਈ ਇਕ ਉਦਾਹਰਣ ਲਿਖੋ । ਕੀ ਤਿਤਲੀ ਦੇ ਖੰਭਾਂ ਅਤੇ ਚਮਗਾਦੜ ਦੇ ਖੰਭਾਂ ਨੂੰ ਸਮਜਾਤ ਅੰਗ ਮੰਨਿਆ ਜਾ ਸਕਦਾ ਹੈ । ਆਪਣੇ ਉੱਤਰ ਦੇ ਪੱਖ ਵਿਚ ਕਾਰਨ ਲਿਖੋ ।

3

17. DNA ਪ੍ਰਤਿਕ੍ਰਿਤੀ (Copying) ਕਿਸ ਨੂੰ ਕਹਿੰਦੇ ਹਨ ? ਇਸ ਦੀ ਮਹਤਤਾ ਦਾ ਵਰਨਨ ਕਰੋ ।

3

18. ਅਧਿਆਪਕ ਜੀ ਨੇ ਕਲਾਸ ਵਿਚ ਇਹ ਵਿਆਖਿਆ ਕੀਤੀ ਕਿ ਪ੍ਰਜਣਨ ਇਕ ਪਰਕਿਰਿਆ ਹੈ ਜਿਸਦੇ ਰਾਹੀਂ ਜੀਵ ਆਪਣੀ ਜਨ ਸੰਖਿਆ ਵਿਚ ਵਾਧਾ ਕਰਦੇ ਹਨ । ਮਨੋਜ ਪ੍ਰਜਣਨ ਸਿਹਤ ਦੇ ਬਾਰੇ ਹੋਰ ਜਾਣ ਕਾਰੀ ਚਾਹੁੰਦਾ ਸੀ । ਅਧਿਆਪਕ ਜੀ ਨੇ ਕਲਾਸ ਵਿਚ ਉਨ੍ਹਾਂ ਬੀਮਾਰੀਆਂ ਦੇ ਬਾਰੇ ਵਿਚ ਵੀ ਵਿਆਖਿਆ ਕੀਤੀ ਜਿਨ੍ਹਾਂ ਦਾ ਸਹੀ ਸਾਵਧਾਨੀਆਂ ਨਾ ਵਰਤਣ ਦੇ ਹਾਲਤ ਵਿਚ ਸੰਚਰਨ ਹੋ ਸਕਦਾ ਹੈ ।

3

- ਵਧਦੀ ਹੋਈ ਜਨ ਸੰਖਿਆ ਅਸੀਂ ਸਾਰਿਆਂ ਲਈ ਚਿੰਤਾ ਦਾ ਵਿਸ਼ਾ ਕਿਉਂ ਹੈ ?
- ਲਿੰਗੀ ਸੰਚਰਨ ਰਾਹੀਂ ਹੋਣ ਵਾਲੇ ਦੋ ਰੋਗਾਂ ਦਾ ਨਾਮ ਲਿਖੋ ।
- ਮਨੋਜ ਅਤੇ ਅਧਿਆਪਕ ਰਾਹੀਂ ਦਰਸਾਏ ਇੱਕ ਇੱਕ ਮੁਲ ਦੇ ਬਾਰੇ ਲਿਖੋ ।

19. (a) ਪਰਕਿਰਤਕ ਸੰਸਾਧਨਾਂ ਦੇ ਸੁਰਖਿਅਣ ਦੇ ਸੰਦਰਭ ਵਿਚ ਸ਼ਬਦਾਂ ਥੋੜੀ ਵਰਤੋਂ, ਮੁੜ ਚਕਰਣ ਅਤੇ ਮੁੜਵਰਤੋਂ ਦੀ ਵਿਆਖਿਆ ਕਰੋ ।  
 (b) ਜਲ ਦਾ ਸੁਰਖਿਅਣ ਕਿਉਂ ਜ਼ਰੂਰੀ ਹੈ ? ਕਿਸੇ ਚਾਰ ਕਾਰਨਾਂ ਦਾ ਵਰਨਨ ਕਰੋ । 5
20. (a) ਮਨੁੱਖੀ ਮਾਦਾ ਪ੍ਰਜਣਨ ਪ੍ਰਣਾਲੀ ਦੇ ਹੇਠ ਲਿੱਖੇ ਹਰ ਭਾਗ ਦਾ ਕੰਮ ਲਿੱਖੋ :  
 (i) ਅੰਡ-ਕੋਸ਼  
 (ii) ਫੈਲੋਪੀਅਨ ਟਿਊਬ  
 (iii) ਗਰਭਕੋਸ਼  
 (b) ਪਲੈਸੈਂਟਾ ਦੀ ਬਣਤਰ ਅਤੇ ਕੰਮਾਂ ਦਾ ਵਰਨਨ ਕਰੋ । 5
21. ਜੈਵ ਵਿਕਾਸ ਦੀ ਪਰਿਭਾਸ਼ਾ ਕਰੋ । ਇਹ ਕਿਵੇਂ ਹੁੰਦਾ ਹੈ ? ਵਿਆਖਿਆ ਕਰੋ ਕਿ ਪਥਰਾਟ ਕਿਵੇਂ ਵਿਕਾਸ ਦੇ ਪੱਖ ਵਿਚ ਪ੍ਰਮਾਣ ਪੇਸ਼ ਕਰਦੇ ਹਨ ? 5
22. (a) ਸੰਤ੍ਰਿਪਤ ਅਤੇ ਅਸੰਤ੍ਰਿਪਤ ਹਾਈਡ੍ਰੋ ਕਾਰਬਨਾਂ ਦੇ ਦਰਮਿਆਨ ਅੰਤਰ ਸਪਸ਼ਟ ਕਰਨ ਦੇ ਲਈ ਕੋਈ ਰਸਾਇਨਿਕ ਪਰੀਖਣ ਲਿੱਖੋ  
 (b) ਈਥੇਨ (Ethane) ਦੇ ਹਵਾ ਵਿਚ ਬਲਣ ਤੇ ਬਣਨ ਵਾਲੇ ਉਤਪਾਦਾਂ ਦੇ ਨਾਮ ਲਿੱਖੋ । ਹੋਣ ਵਾਲੀ ਕਿਰਿਆ ਦੀ ਰਸਾਇਨਿਕ ਸਮੀਕਰਣ ਲਿੱਖੋ ਅਤੇ ਪੈਦਾ ਹੋਣ ਵਾਲੀਆਂ ਵੱਖੋ ਵੱਖ ਪ੍ਰਕਾਰ ਦੀਆਂ ਊਰਜਾਵਾਂ ਨੂੰ ਵੀ ਦਰਸਾਓ ।  
 (c) ਸੂਰਜ ਦੀ ਰੌਸ਼ਨੀ ਦੀ ਮੌਜੂਦਗੀ ਵਿਚ ਮੀਥੇਨ ਦੀ ਕਲੋਰੀਨ ਦੇ ਨਾਲ ਕਿਰਿਆ ਲਿੱਖੋ । ਇਸ ਨੂੰ ਪ੍ਰਤਿਸਥਾਪਨ ਕਿਰਿਆ ਕਿਉਂ ਮੰਨਿਆ ਜਾਂਦਾ ਹੈ ? 5
23. ਲੈੱਨਜ਼ਾਂ ਰਾਹੀਂ ਪ੍ਰਕਾਸ਼ ਦੇ ਅਪਵਰਤਨ ਵਿਚ ਲਾਗੂ ਹੋਣ ਵਾਲੇ ਨਿਯਮ ਲਿੱਖੋ । ਅਵਤਲ ਲੈੱਨਜ਼ ਰਾਹੀਂ ਪ੍ਰਤਿਬਿੰਬ ਬਣਨਾ ਦਰਸਾਣ ਦੇ ਲਈ ਕਿਰਨ ਚਿੱਤਰ ਖਿੱਚੋ । ਬਣਨ ਵਾਲੇ ਪ੍ਰਤਿਬਿੰਬ ਦੇ ਕਿਸੇ ਦੋ ਲੱਛਣਾਂ ਦੀ ਸੂਚੀ ਬਣਾਓ । ਕਿਸੇ ਅਵਤਲ ਲੈੱਨਜ਼ ਦੇ ਰਾਹੀਂ ਹੋਣ ਵਾਲਾ ਵਡਦਰਸ਼ਨ  $+ 0.5$  ਹੈ । ਇਸਦਾ ਕੀ ਅਰਥ ਹੈ ? 5
24. ਸਪੈਕਟ੍ਰਮ ਕਿਸਨੂੰ ਕਹਿੰਦੇ ਹਨ ? ਕਿਸੇ ਕੱਚ ਦੇ ਪ੍ਰਿਜ਼ਮ ਵਿਚੋਂ ਗੁਜ਼ਰਨ ਪਿੱਛੋਂ ਵੱਖੋ ਵੱਖ ਰੰਗਾਂ ਦੀਆਂ ਕਿਰਨਾਂ ਵੱਖੋ ਵੱਖ ਕੋਣਾਂ ਉੱਪਰ ਕਿਉਂ ਝੁਕ ਜਾਂਦੀਆਂ ਹਨ ? ਸਫੈਦ ਪ੍ਰਕਾਸ਼ ਦੇ ਵੱਖੋ ਵੱਖ ਸੰਘਟਕਾਂ ਨੂੰ ਪੁਨਰਸੰਯੋਜਨ ਕਰਨ ਦੀ ਵਿਧੀ ਦੀ ਵਿਆਖਿਆ ਕਰੋ । 5

### ਭਾਗ – ਬ

### Section – B

25. ਚਾਰ ਵਿਦਿਆਰਥੀਆਂ A, B, C ਅਤੇ D ਨੇ ਹੇਠ ਦਿਤੇ ਗਏ ਵੱਖੋ ਵੱਖਰੇ ਜੀਵਾਂ ਦੇ ਅੰਗਾਂ ਦੇ ਸਮੂਹਾਂ ਨੂੰ ਸਮਜਾਤ ਅੰਗਾਂ ਦੀ ਸੂਚੀ ਵਿਚ ਰਖਿਆ । ਇਨ੍ਹਾਂ ਵਿਚੋਂ ਕਿਹੜਾ ਸਹੀ ਸੀ ?  
 A. ਚਮਗਾਦੜ ਦੇ ਖੰਭ ਅਤੇ ਤਿਤਲੀ ਦੇ ਖੰਭ  
 B. ਕਬੂਤਰ ਦੇ ਖੰਭ ਅਤੇ ਚਮਗਾਦੜ ਦੇ ਖੰਭ  
 C. ਕਬੂਤਰ ਦੇ ਖੰਭ ਅਤੇ ਤਿਤਲੀ ਦੇ ਖੰਭ  
 D. ਗਾਂ, ਬਤਖ ਅਤੇ ਛਿਪਕਲੇ ਦੇ ਮੁਹਰਲੇ ਅੰਗ  
 (a) A (b) B (c) C (d) D 1

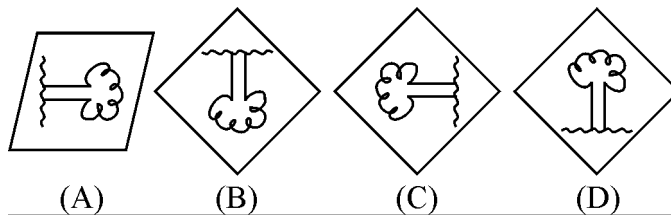
26. ਮਟਰ ਦੇ ਬੀਜ ਦੇ ਭਰੂਣ ਦਾ ਨਿਰੀਖਣ ਕਰਕੇ ਕਿਸੇ ਵਿਦਿਆਰਥੀ ਨੇ ਉਸਦੇ ਹੇਠ ਦਿਤੇ ਗਏ ਭਾਗਾਂ ਦੀ ਸੂਚੀ ਬਣਾਈ :  
 ਬੀਜਾਂਡ ਦਵਾਰ (ਮਾਇਕਰੋਪਾਇਲ), ਬੀਜ ਪਤਰ (ਕੋਟੋਲੇਡਨ), ਪ੍ਰਾਕੁਰ (ਪਲੁਮੁਲੇ)  
 ਬੀਜਾਵਰਣ (ਟੇਸਟਾ), ਮੂਲਾਂਕੁਰ (ਰੇਡੀਕਲ), ਅੰਦਰਲਾ ਕਵਚ (ਟੇਗਮੇਨ)  
 ਇਸ ਸੂਚੀ ਦਾ ਨਿਰੀਖਣ ਕਰਦੇ ਹੋਏ, ਅਧਿਆਪਕ ਨੇ ਇਹ ਟਿਪਣੀ ਕੀਤੀ ਕਿ ਇਨ੍ਹਾਂ ਵਿਚੋਂ ਸਿਰਫ ਤਿੰਨ ਭਾਗ ਹੀ ਬੀਜ  
 ਦੇ ਭਰੂਣ ਦੇ ਹਨ, ਇਨ੍ਹਾਂ ਤਿੰਨਾਂ ਭਾਗਾਂ ਨੂੰ ਚੁਣੋ :

- (a) ਬੀਜਾ ਵਰਣ, ਮੂਲਾਂਕੁਰ, ਬੀਜ ਪਤਰ
- (b) ਅੰਦਰੂਨੀ ਕਵਚ, ਮੂਲਾਂਕੁਰ, ਬੀਜਾਂਡ ਦਵਾਰ
- (c) ਬੀਜ ਪਤਰ, ਪ੍ਰਾਕੁਰ, ਮੂਲਾਂਕੁਰ
- (d) ਬੀਜ ਪਤਰ, ਪ੍ਰਾਕੁਰ, ਬੀਜਾਵਰਣ

1

27. ਕੋਈ ਵਿਦਿਆਰਥੀ ਕਿਸੇ ਬਹੁਤ ਦੂਰ ਖੜ੍ਹੇ ਦਰਖਤ ਨੂੰ ਪਰਦੇ ਉਪਰ ਫੋਕਸਿਤ ਕਰਕੇ ਕਿਸੇ ਦਿੱਤੇ ਗਏ ਅਵਤਲ ਦਰਪਣ ਦੀ  
 ਫੋਕਸ ਦੂਰੀ ਪਤਾ ਕਰਨ ਦਾ ਪ੍ਰਯੋਗ ਕਰ ਰਿਹਾ ਹੈ । ਉਸਨੂੰ ਹੇਠ ਦਿੱਤੇ ਗਏ ਪ੍ਰਤਿਬਿੰਬਾਂ ਵਿਚੋਂ ਪਰਦੇ ਉਪਰ ਕਿਹੋ ਜਿਹਾ  
 ਪ੍ਰਤਿਬਿੰਬ ਮਿਲਣਾ ਚਾਹੀਦਾ ਹੈ ?

1



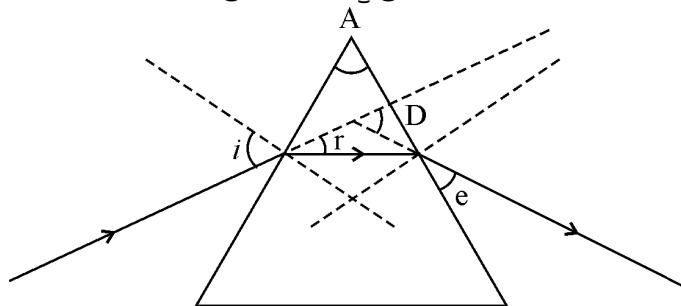
- (a) (A)
- (b) (B)
- (c) (C)
- (d) (D)

28. ਕਿਸੇ ਵਿਦਿਆਰਥੀ ਨੇ ਉਤਲ ਲੈਂਜ ਦੀ ਸਹਾਇਤਾ ਨਾਲ ਕਿਸੇ ਬਹੁਤ ਦੂਰ ਖੜ੍ਹੀ ਇਮਾਰਤ ਨੂੰ ਪਰਦੇ ਉਪਰ ਫੋਕਸਿਤ  
 ਕੀਤਾ । ਜੇਕਰ ਉਸਨੇ ਬਿੰਬ ਦੇ ਰੂਪਵਿਚ ਨੀਲੀ ਇਮਾਰਤ ਨੂੰ ਚੁਣਿਆ ਹੈ ਤਾਂ ਹੇਠ ਦਿਤੇ ਗਏ ਉਸ ਵਿਕਲਪ ਨੂੰ ਚੁਣੋ ਜਿਸ  
 ਵਿਚ ਪਰਦੇ ਉਪਰ ਪ੍ਰਾਪਤ ਹੋਣ ਵਾਲੇ ਪ੍ਰਤਿਬਿੰਬ ਦੇ ਸਹੀ ਲੱਛਣ ਦਿਤੇ ਗਏ ਹਨ ?

- (a) ਆਭਾਸੀ, ਸਿੱਧਾ, ਛੋਟਾ ਅਤੇ ਹਰੇ ਰੰਗ ਦਾ
- (b) ਵਾਸਤਵਿਕ, ਉਲਟਾ, ਛੋਟਾ ਅਤੇ ਬੈਂਗਣੀ ਰੰਗ ਦਾ
- (c) ਵਾਸਤਵਿਕ, ਉਲਟਾ, ਛੋਟਾ ਅਤੇ ਨੀਲੇ ਰੰਗ ਦਾ
- (d) ਆਭਾਸੀ, ਉਲਟਾ, ਛੋਟਾ ਅਤੇ ਨੀਲੇ ਰੰਗ ਦਾ

1

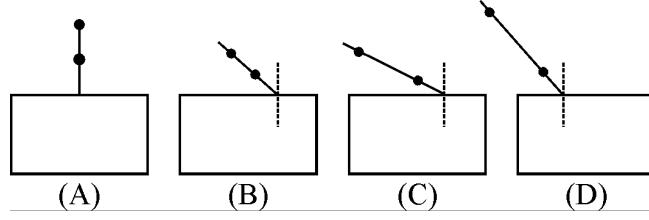
29. ਹੇਠ ਦਿੱਤੇ ਚਿੱਤਰ ਦਾ ਅਧਿਐਨ ਕਰੋ ਅਤੇ ਉਸ ਵਿਕਲਪ ਨੂੰ ਚੁਣੋ ਜਿਸ ਵਿਚ ਸਹੀ ਅੰਕਤ ਕੋਣ ਦਿਤੇ ਗਏ ਹਨ :



- (a)  $\angle i, \angle A, \angle D$
- (b)  $\angle i, \angle r, \angle D$
- (c)  $\angle i, \angle e, \angle A$
- (d)  $\angle r, \angle e, \angle D$

1

30. ਹੇਠ ਦਿਖਲਾਈਆਂ ਗਈਆਂ ਚਾਰ ਵਿਦਿਆਰਥੀਆਂ A, B, C ਅਤੇ D ਦੀਆਂ ਪ੍ਰਯੋਗਿਕ ਵਿਵਸਥਾਵਾਂ ਦਾ ਅਧਿਐਨ ਕਰੋ ਜਿਨ੍ਹਾਂ ਵਿਚ ਕੱਚ ਦੀ ਸਿੱਲੀ (ਸਲੈਬ) ਵਿਚੋਂ ਗੁਜ਼ਰਨ ਵਾਲੀ ਪ੍ਰਕਾਸ਼ ਕਿਰਨ ਦਾ ਪਥ ਉਲੀਕਣ ਦੇ ਲਈ ਆਪਤਿਤ ਕਿਰਨ ਦਰਸਾਈ ਗਈ ਹੈ। ਇਨ੍ਹਾਂ ਵਿਚੋਂ ਕਿਸ ਨੂੰ ਸਭ ਤੋਂ ਉੱਤਮ ਨਤੀਜਾ ਪ੍ਰਾਪਤ ਹੋਵੇਗਾ।



- (a) (A) (b) (B)  
(c) (C) (d) (D) 1

31. ਐਸਿਟਿਕ ਐਸਿਡ ਦੇ ਗੁਣਾਂ ਨਾਲ ਸੰਬੰਧਤ ਸਹੀ ਕਥਨ ਚੁਣੋ :

- (a) ਇਸਦੀ ਸਿਰਕੇ ਵਰਗੀ ਬੋ ਹੁੰਦੀ ਹੈ ਅਤੇ ਲਾਲ ਲਿਟਮਸ ਨੂੰ ਨੀਲਾ ਕਰ ਦੇਂਦਾ ਹੈ।  
(b) ਇਹ ਪਾਣੀ ਵਿਚ ਘੁਲਦਾ ਨਹੀਂ ਹੈ ਅਤੇ ਨੀਲੇ ਲਿਟਮਸ ਨੂੰ ਲਾਲ ਕਰ ਦੇਂਦਾ ਹੈ।  
(c) ਇਹ ਜਲ ਵਿਚ ਘੁਲਮਿਲ ਜਾਂਦਾ ਹੈ ਅਤੇ ਲਾਲ ਲਿਟਮਸ ਨੂੰ ਨੀਲਾ ਕਰ ਦੇਂਦਾ ਹੈ।  
(d) ਇਹ ਦੀ ਸਿਰਕੇ ਵਰਗੀ ਬੋ ਹੁੰਦੀ ਹੈ ਅਤੇ ਨੀਲੇ ਲਿਟਮਸ ਨੂੰ ਲਾਲ ਕਰ ਦੇਂਦਾ ਹੈ। 1

32. ਤੁਹਾਡੇ ਕੋਲ ਬੀਕਰ ਵਿਚ ਨਿਮ ਦਾ ਤੇਲ ਹੈ। ਸਾਬੂਣੀਕਰਨ ਕਿਰਿਆ ਦਾ ਅਧਿਐਨ ਕਰਨ ਦੇ ਲਈ ਤੁਸੀਂ ਇਸ ਤੇਲ ਵਿਚ ਹੇਠ ਦਿੱਤਿਆ ਵਿਚੋਂ ਕਿਹੜਾ ਰਸਾਇਣਿਕ ਪਦਾਰਥ ਮਿਲਾਉਗੇ ?

- (a) 20%  $\text{Ca(OH)}_2$  (b) 20% NaOH  
(c) 30%  $\text{Mg(OH)}_2$  (d) 10%  $\text{Ca(OH)}_2$  1

33. ਤੁਹਾਡੇ ਕੋਲ ਇਕੋ ਜਹੀ ਸੰਘਣਤਾ ਵਾਲੇ ਚਾਰ ਵੱਖੋ ਵੱਖ ਲਵਣਾਂ ਨਾਲ ਭਰਿਆ ਚਾਰ ਪਰਖ ਨਲੀਆਂ A, B, C ਅਤੇ D ਹਨ। A ਵਿਚ  $\text{NaCl}$ , B ਵਿਚ  $\text{CaCl}_2$ , C ਵਿਚ  $\text{MgCl}_2$  ਅਤੇ D ਵਿਚ  $\text{KCl}$  ਦੇ ਪਾਣੀ ਵਿਚ ਘੋਲ ਭਰੇ ਹੋਏ ਹਨ। ਜੇਕਰ ਤੁਸੀਂ ਇਨ੍ਹਾਂ ਚਾਰਾਂ ਪਰਖ ਨਲੀਆਂ ਦੇ ਘੋਲਾਂ ਵਿਚ ਕਿਸੇ ਸਾਬਣ ਦੇ ਘੋਲਾਂ ਦੀ ਬਰਾਬਰ ਬਰਾਬਰ ਮਾਤਰਾ ਮਿਲਾ ਕੇ ਚੰਗੀ ਤਰ੍ਹਾਂ ਹਿਲਾਉਗੇ, ਤਾਂ ਇਨ੍ਹਾਂ ਵਿਚੋਂ ਕਿਸ ਕਿਸ ਪਰਖ ਨਲੀ ਵਿਚ ਕੋਈ ਸੱਕਮ (ਅਘੁਲਣਸ਼ੀਲ ਪਦਾਰਥ) ਬਣੇਗਾ ?

- (a) A ਅਤੇ B (b) B ਅਤੇ C  
(c) C ਅਤੇ D (d) A ਅਤੇ D 1

34. ਅਮੀਬਾ ਵਿਚ ਦੋ ਖੰਡਨ ਦੇ ਉਸ ਵਿਸ਼ੇਸ਼ ਕਦਮ ਦਾ ਲੇਬਲ ਕੀਤਾ ਚਿੱਤਰ ਬਣਾਓ ਜਿਸ ਵਿਚ ਉਸਦਾ ਕੇਂਦਰਕ ਲੰਬੂਤਰਾ ਹੋ ਜਾਂਦਾ ਹੈ ਅਤੇ ਸੈੱਲ ਦੀ ਝਿੱਲੀ ਵਿਚੋਂ ਸੰਕੀਰਨ ਦਿਖਾਈ ਦੇਂਦਾ ਹੈ । 2
35. 2.0 ਉਚਾਈ ਦਾ ਕੋਈ ਬਿੰਬ 10 ਸੈ:ਮੀ: ਫੋਕਸ ਦੂਰੀ ਦੇ ਕਿਸੇ ਉੱਤਲ ਲੈਂਨਜ਼ ਦੇ ਮੁਖ ਧੁਰੇ ਤੇ ਲੈਂਨਜ਼ ਦੇ ਪ੍ਰਕਾਸ਼ੀ ਕੇਂਦਰ (O) ਤੋਂ 20 ਸੈ:ਮੀ: ਦੂਰੀ ਉਪਰ ਰਖਿਆ ਹੈ । ਕੋਈ ਸਹੀ ਪੈਮਾਨਾ ਚੁਣ ਕੇ ਬਣਨ ਵਾਲੇ ਪ੍ਰਤਿਬਿੰਬ ਦੀ ਸਥਿਤੀ, ਪ੍ਰਕਿਰਤੀ ਅਤੇ ਲਾਈਜ਼ ਪਤਾ ਕਰਨ ਦੇ ਲਈ ਇਕ ਕਿਰਨ ਚਿੱਤਰ ਬਣਾਓ । ਪ੍ਰਤਿਬਿੰਬ ਦਾ ਸਾਈਜ਼ ਅਤੇ ਪ੍ਰਕਾਸ਼ੀ ਕੇਂਦਰ ਤੋਂ ਪ੍ਰਤਿਬਿੰਬ ਦੀ ਦੂਰੀ ਵੀ ਮਾਪ ਕੇ ਲਿਖੋ । 2
36. ਜੇਕਰ ਤੁਸੀਂ ਐਸਿਟਿਕ ਐਸਿਡ ਦੀਆਂ ਕੁਝ ਬੂੰਦਾਂ ਉਸ ਪਰਖ ਨਲੀ ਵਿਚ ਪਾਓ ਜਿਸ ਵਿਚ (i) ਕਸ਼ੀਦ ਕੀਤਾ (ਡਿਸਟਿਲਡ) ਪਾਣੀ ਅਤੇ (ii) ਸੋਡੀਅਮ ਹਾਇਡ੍ਰੋਜਨ ਕਾਰਬੋਨੇਟ ਦਾ ਪਾਣੀ ਵਿਚ ਘੋਲ ਭਰਿਆ ਹੈ ਤਾਂ ਤੁਸੀਂ ਕੀ ਨਿਰੀਖਣ ਕਰੋਗੇ ? ਜੇਕਰ ਇਨ੍ਹਾਂ ਵਿਚੋਂ ਕਿਸੇ ਵੀ ਸੂਰਤ ਵਿਚ ਕੋਈ ਕਿਰਿਆ ਹੁੰਦੀ ਹੈ, ਤਾਂ ਉਸਦੇ ਦੋ ਨਿਰੀਖਣਾਂ ਦੀ ਸੂਚੀ ਬਣਾਓ । 2