

Series JBB/5**SET-3**कोड नं. **31/5/3**
Code No.रोल नं.
Roll No.

--	--	--	--	--	--	--	--	--	--



परीक्षार्थी कोड को उत्तर-पुस्तिका के मुख-पृष्ठ पर अवश्य लिखें ।

Candidates must write the Code on the title page of the answer-book.

नोट	NOTE
(I) कृपया जाँच कर लें कि इस प्रश्न-पत्र में मुद्रित पृष्ठ 23 हैं ।	(I) Please check that this question paper contains 23 printed pages.
(II) प्रश्न-पत्र में दाहिने हाथ की ओर दिए गए कोड नम्बर को छात्र उत्तर-पुस्तिका के मुख-पृष्ठ पर लिखें ।	(II) Code number given on the right hand side of the question paper should be written on the title page of the answer-book by the candidate.
(III) कृपया जाँच कर लें कि इस प्रश्न-पत्र में 30 प्रश्न हैं ।	(III) Please check that this question paper contains 30 questions.
(IV) कृपया प्रश्न का उत्तर लिखना शुरू करने से पहले, उत्तर-पुस्तिका में प्रश्न का क्रमांक अवश्य लिखें ।	(IV) Please write down the Serial Number of the question in the answer-book before attempting it.
(V) इस प्रश्न-पत्र को पढ़ने के लिए 15 मिनट का समय दिया गया है । प्रश्न-पत्र का वितरण पूर्वाह्न में 10.15 बजे किया जाएगा । 10.15 बजे से 10.30 बजे तक छात्र केवल प्रश्न-पत्र को पढ़ेंगे और इस अवधि के दौरान वे उत्तर-पुस्तिका पर कोई उत्तर नहीं लिखेंगे ।	(V) 15 minute time has been allotted to read this question paper. The question paper will be distributed at 10.15 a.m. From 10.15 a.m. to 10.30 a.m., the students will read the question paper only and will not write any answer on the answer-book during this period.



विज्ञान SCIENCE

निर्धारित समय : 3 घण्टे

अधिकतम अंक : 80

Time allowed : 3 hours

Maximum Marks : 80



सामान्य निर्देश:

निम्नलिखित निर्देशों को बहुत सावधानी से पढ़िए और उनका सख्ती से पालन कीजिए :

- (i) यह प्रश्न-पत्र **तीन खण्डों** में विभाजित किया गया है – क, ख और ग । इस प्रश्न-पत्र में **30 प्रश्न** हैं । **सभी प्रश्न अनिवार्य** हैं ।
- (ii) **खण्ड क** के सभी प्रश्न/उनके भाग, प्रश्न संख्या **1 से 14 तक एक-एक अंक** के हैं । इन प्रश्नों में बहुविकल्पी प्रश्न, अति लघु-उत्तरीय प्रश्न तथा अभिकथन-कारण प्रकार के प्रश्नों को सम्मिलित किया गया है । इन प्रश्नों के उत्तर **एक शब्द** अथवा **एक वाक्य** में दिए जाने चाहिए ।
- (iii) **खण्ड ख** में प्रश्न संख्या **15 से 24 तक लघु-उत्तरीय** प्रकार के प्रश्न हैं, प्रत्येक प्रश्न **3 अंक** का है । प्रत्येक प्रश्न का उत्तर लगभग 50 से 60 शब्दों से अधिक नहीं होना चाहिए ।
- (iv) **खण्ड ग** में प्रश्न संख्या **25 से 30 तक दीर्घ-उत्तरीय** प्रकार के प्रश्न हैं, प्रत्येक प्रश्न **5 अंक** का है । प्रत्येक प्रश्न का उत्तर लगभग 80 से 90 शब्दों से अधिक नहीं होना चाहिए ।
- (v) उत्तर संक्षिप्त तथा बिंदुवार होना चाहिए और साथ ही उपर्युक्त शब्द सीमा का यथासंभव पालन किया जाना चाहिए ।
- (vi) प्रश्न-पत्र में समग्र पर कोई विकल्प नहीं है । तथापि प्रत्येक खण्ड में कुछ प्रश्नों में आंतरिक विकल्प दिए गए हैं । ऐसे प्रश्नों में से **केवल एक ही विकल्प का उत्तर** लिखिए ।
- (vii) इसके अतिरिक्त, आवश्यकतानुसार, प्रत्येक खण्ड और प्रश्न के साथ यथोचित निर्देश दिए गए हैं ।

खण्ड क

प्रश्न संख्या 1 और 2 के लिए, दो कथन दिए गए हैं जिनमें एक को अभिकथन (A) तथा दूसरे को कारण (R) द्वारा अंकित किया गया है । इन प्रश्नों के सही उत्तर नीचे दिए गए कोडों (i), (ii), (iii) और (iv) में से चुनकर दीजिए ।

- (i) (A) और (R) दोनों सही हैं तथा (R), अभिकथन (A) की सही व्याख्या करता है ।
- (ii) (A) और (R) दोनों सही हैं, परन्तु (R), अभिकथन (A) की सही व्याख्या **नहीं** करता है ।
- (iii) (A) सही है, परन्तु (R) ग़लत है ।
- (iv) (A) ग़लत है, परन्तु (R) सही है ।

1. अभिकथन (A) : कार्बन की या तो इलेक्ट्रॉन खोकर अथवा इलेक्ट्रॉन ग्रहण करके उत्कृष्ट गैस विन्यास प्राप्त करने की प्रबल प्रवृत्ति होती है ।

कारण (R) : कार्बन के बाह्यतम कोश में चार इलेक्ट्रॉन होते हैं और इसमें कार्बन अथवा अन्य तत्त्वों के इलेक्ट्रॉनों से साझेदारी करने की प्रवृत्ति होती है ।



General Instructions :

Read the following instructions very carefully and strictly follow them :

- (i) This question paper comprises **three** Sections – A, B and C. There are **30** questions in the question paper. **All** questions are compulsory.
- (ii) **Section A** – Questions no. **1** to **14** — all questions or part thereof are of **one** mark each. These questions comprise Multiple Choice Questions (MCQ), Very Short Answer (VSA) and Assertion–Reason type questions. Answer to these questions should be given in **one word** or **one sentence**.
- (iii) **Section B** – Questions no. **15** to **24** are short answer type questions, carrying **3** marks each. Answer to these questions should not exceed 50 to 60 words.
- (iv) **Section C** – Questions no. **25** to **30** are long answer type questions, carrying **5** marks each. Answer to these questions should not exceed 80 to 90 words.
- (v) Answers should be brief and to the point. Also the above mentioned word limit be adhered to as far as possible.
- (vi) There is no overall choice in the question paper. However, an internal choice has been provided in some questions in each Section. **Only one of the choices** in such questions have to be attempted.
- (vii) In addition to this, separate instructions are given with each section and question, wherever necessary.

SECTION A

For question numbers 1 and 2, two statements are given – one labelled Assertion (A) and the other labelled Reason (R). Select the correct answer to these questions from the codes (i), (ii), (iii) and (iv) as given below.

- (i) Both (A) and (R) are true and (R) is correct explanation of the assertion (A).
- (ii) Both (A) and (R) are true, but (R) is **not** the correct explanation of the assertion (A).
- (iii) (A) is true, but (R) is false.
- (iv) (A) is false, but (R) is true.

1. Assertion (A) : Carbon has a strong tendency to either lose or gain electrons to attain noble gas configuration.

Reason (R) : Carbon has four electrons in its outermost shell and has the tendency to share electrons with carbon or other elements.



2. **अधिकथन (A) :** उच्च तापों पर धातुओं के तारों में लघुपथन की अधिक संभावना होती है ।
कारण (R) : किसी पदार्थ का प्रतिरोध और प्रतिरोधकता दोनों ही ताप के साथ विचरण करते हैं । 1
3. सहसंयोजी यौगिक सामान्यतः विद्युत् के कुचालक होते हैं । क्यों ? 1
4. निम्नलिखित तत्त्वों के सामान्य गुण का उल्लेख कीजिए : 1
 बोरॉन, सिलिकॉन, जर्मेनियम और आर्सेनिक

अथवा

- उस आवर्त नियम का उल्लेख कीजिए जिस पर आधुनिक आवर्त सारणी आधारित है । 1
5. निम्नलिखित अनुच्छेद और संबंधित पढ़ी गयीं संकल्पनाओं की व्याख्या के आधार पर प्रश्न संख्या 5(a) से 5(d) के उत्तर दीजिए :

भारत में सौर शक्ति एक तीव्र विकसित होता हुआ उद्योग है । 31 जुलाई, 2019 तक देश की सौर प्रतिष्ठापित क्षमता 30.071 GW तक पहुँच गई थी । भारत में प्रतिष्ठापित सौर शक्ति संयंत्रों की प्रति MW पूँजी लागत सबसे कम है । जनवरी 2019 में सौर विद्युत् जनन कुल उपयोग होने वाली विद्युत् जनन का लगभग 3.4% रिकॉर्ड की गई । निम्नलिखित तालिका में पिछले छः वर्षों में वार्षिक सौर शक्ति जनन को दर्शाया गया है ।

वर्ष	सौर शक्ति जनन (TWh)
2013 – 14	3.35
2014 – 15	4.60
2015 – 16	7.45
2016 – 17	12.09
2017 – 18	25.87
2018 – 19	39.27

हमारा देश भाग्यशाली है कि वर्ष के अधिकांश भाग में सौर ऊर्जा प्राप्त होती रहती है । ऐसा अनुमान है कि भारत 5000 ट्रिलियन kWh के तुल्य ऊर्जा से अधिक ऊर्जा एक वर्ष में सूर्य से प्राप्त करता है ।



2. *Assertion (A)* : At high temperatures, metal wires have a greater chance of short circuiting.
Reason (R) : Both resistance and resistivity of a material vary with temperature. 1
3. Covalent compounds are generally poor conductors of electricity. Why? 1
4. State the common characteristic of the following elements : 1
 Boron, Silicon, Germanium and Arsenic

OR

State the Periodic Law on which the Modern Periodic Table is based. 1

5. Answer question numbers 5(a) – 5(d) on the basis of your understanding of the following paragraph and the related studied concepts :

Solar power in India is a fast developing industry. The country's solar installed capacity reached 30.071 GW as of 31 July, 2019. India has the lowest capital cost per MW to install solar power plants. Solar electricity generation recorded nearly 3.4% of total utility electricity generation in January 2019. The following table shows Annual Solar Power Generation of the last six years.

Year	Solar Power Generation (TWh)
2013 – 14	3.35
2014 – 15	4.60
2015 – 16	7.45
2016 – 17	12.09
2017 – 18	25.87
2018 – 19	39.27

Our country is lucky to receive solar energy for the greater part of the year. It is estimated that during a year India receives the energy equivalent to more than 5000 trillion kWh from the Sun.



- 5(a) सौर सेल क्या हैं ? 1
- 5(b) धूप में रखे जाने पर किसी प्ररूपी सौर सेल से कितनी वोल्टता विकसित और कितनी विद्युत् उत्पन्न की जा सकती है ? 1
- 5(c) भारत में सौर ऊर्जा द्वारा शक्ति जनन का भविष्य उज्ज्वल है । इसका कारण दीजिए । 1
- 5(d) सौर सेलों के दो लाभों को सूचीबद्ध कीजिए । 1

6. प्रश्न संख्या 6(a) से 6(d) नीचे दी गई तालिका और अनुच्छेद में दी गई संबंधित सूचनाओं पर आधारित हैं ।

थाइरॉइड उद्दीपक हॉर्मोन (TSH) थायरॉक्सिन उत्पन्न करने के लिए थाइरॉइड ग्रंथि को उद्दीप्त करता है । नीचे दी गई तालिका का अध्ययन कीजिए ।

तालिका : गर्भावस्था की अवधि में TSH के स्तर

गर्भावस्था का चरण	सामान्य (mU/L)	निम्न (mU/L)	उच्च (mU/L)
प्रथम तिमाही	0.2 – 2.5	< 0.2	2.5 – 10
द्वितीय तिमाही	0.3 – 3.0	< 0.3	3.01 – 4.5
तृतीय तिमाही	0.8 – 5.2	< 0.8	> 5.3

गर्भावस्था में TSH के स्तर को मॉनीटर करना महत्वपूर्ण होता है । TSH का उच्च स्तर और हाइपोथाइरॉइडिज़्म गर्भापात के संयोग को विशेष रूप से प्रभावित कर सकता है । अतः थाइरॉइड ग्रंथि की समुचित क्रिया के नियमन/नियंत्रण के लिए डॉक्टर के परामर्श द्वारा उचित दवाइयाँ (चिकित्सा) देना आवश्यक होता है ।

- 6(a) TSH का पूरा नाम लिखिए । 1
- 6(b) TSH के प्रमुख कार्य का उल्लेख कीजिए । 1
- 6(c) गर्भवती महिलाओं के TSH स्तर को मॉनीटर करने की आवश्यकता क्यों है ? 1
- 6(d) किसी गर्भवती महिला का TSH स्तर 8.95 mU/L है । उसे किस प्रकार की देख-भाल की आवश्यकता है ? 1



- 5(a) What are solar cells ? 1
- 5(b) How much voltage can be developed and how much electricity can be produced by one typical solar cell when exposed to the Sun ? 1
- 5(c) The future of power generation by solar energy is bright in India. Give reason. 1
- 5(d) List two advantages of solar cells. 1

6. Question numbers 6(a) – 6(d) are based on the table and related information in the passage given below.

Thyroid Stimulating Hormone (TSH) stimulates thyroid gland to produce thyroxine. Study the table given below.

Table : TSH levels during pregnancy

Stage of pregnancy	Normal (mU/L)	Low (mU/L)	High (mU/L)
First trimester	0.2 – 2.5	< 0.2	2.5 – 10
Second trimester	0.3 – 3.0	< 0.3	3.01 – 4.5
Third trimester	0.8 – 5.2	< 0.8	> 5.3

It is important to monitor TSH levels during pregnancy. High TSH levels and hypothyroidism can especially affect chances of miscarriage. Therefore, proper medication in consultation with a doctor is required to regulate/control the proper functioning of the thyroid gland.

- 6(a) Give the full form of TSH. 1
- 6(b) State the main function of TSH. 1
- 6(c) Why do TSH levels in pregnant women need to be monitored ? 1
- 6(d) A pregnant woman has TSH level of 8.95 mU/L. What care is needed for her ? 1



7. mA और μA के मान क्रमशः हैं 1
- (A) 10^{-6} A और 10^{-9} A
- (B) 10^{-3} A और 10^{-6} A
- (C) 10^{-3} A और 10^{-9} A
- (D) 10^{-6} A और 10^{-3} A
8. लम्बाई l तथा एकसमान अनुप्रस्थ-काट क्षेत्रफल 'A' के किसी बेलनाकार चालक का प्रतिरोध 'R' है। उसी पदार्थ के किसी अन्य चालक जिसकी लम्बाई $2.5l$ तथा प्रतिरोध $0.5R$ है, का अनुप्रस्थ-काट क्षेत्रफल होगा 1
- (A) 5 A
- (B) $2.5A$
- (C) $0.5A$
- (D) $\frac{1}{5}A$
9. जब हम सामान्य नेत्र से किसी बिम्ब की दूरी में वृद्धि करते हैं, तो अभिनेत्र लेंस से प्रतिबिम्ब दूरी 1
- (A) बढ़ जाती है।
- (B) घट जाती है।
- (C) में कोई परिवर्तन नहीं होता।
- (D) नेत्र-गोलक के साइज़ पर निर्भर करती है।
10. गढ़वाल का रेनी गाँव किसके लिए प्रसिद्ध है ? 1
- (A) एक ही प्रकार के वृक्षों - पाइन (चीड़), सागौन (टीक) और यूकेलिप्टस उगाना (मोनोकल्चर)
- (B) चिपको आन्दोलन
- (C) विस्तृत जैवविविधता
- (D) वनों के दक्ष प्रबंधन में स्थानीय लोगों की भागीदारी



7. The values of mA and μ A are 1
- (A) 10^{-6} A and 10^{-9} A respectively
- (B) 10^{-3} A and 10^{-6} A respectively
- (C) 10^{-3} A and 10^{-9} A respectively
- (D) 10^{-6} A and 10^{-3} A respectively
8. A cylindrical conductor of length ' l ' and uniform area of cross-section ' A ' has resistance ' R '. Another conductor of length $2.5 l$ and resistance $0.5 R$ of the same material has area of cross-section 1
- (A) $5 A$
- (B) $2.5 A$
- (C) $0.5 A$
- (D) $\frac{1}{5} A$
9. The image distance from the eye lens in the normal eye when we increase the distance of an object from the eye 1
- (A) increases.
- (B) decreases.
- (C) remains unchanged.
- (D) depends on the size of the eyeball.
10. The Reni village of Garhwal is famous for 1
- (A) Monocultures of pine, teak and eucalyptus.
- (B) Chipko Movement.
- (C) Extensive biodiversity.
- (D) Participation of local people in efficient management of forests.



11. किसी नई परियोजना को आरम्भ करते समय सामान्यतः की जाने वाली निम्नलिखित आलोचनाओं पर विचार कीजिए :

- I. बिना मुआवज़ा दिए किसानों और स्थानीय आदिवासियों का विस्थापन ।
- II. बिना किसी लाभ के जनता के बहुत अधिक धन को लीला जाना ।
- III. वनोन्मूलन और जैवविविधता की हानि ।

विशेषकर बड़े बाँधों के बारे में होने वाली आलोचनाएँ हैं

1

- (A) I और II
- (B) II और III
- (C) I और III
- (D) I, II और III

अथवा

अनावश्यक बल्बों और पंखों के स्विच ऑफ करना तथा रिसाव वाली टोंटियों की मरम्मत कराना पाँच प्रकार के 'R' में से किसे सही परिभाषित करता है ?

1

- (A) पुनः चक्रण
- (B) पुनः उपयोग
- (C) पुनः प्रयोजन
- (D) कम उपयोग

12. फेरस सल्फेट को अत्यधिक तप्त करने पर कोई भूरा ठोस और दो गैसों बनती हैं । इस अभिक्रिया को किन प्रकारों में वर्गीकृत किया जा सकता है ?

1

- (A) विस्थापन और रेडॉक्स
- (B) वियोजन और रेडॉक्स
- (C) विस्थापन और ऊष्माशोषी
- (D) वियोजन और ऊष्मा-उन्मोची (ऊष्माक्षेपी)

13. यदि समान सांद्रता के 10 mL H_2SO_4 को 10 mL $Mg(OH)_2$ के साथ मिलाया जाए, तो परिणामी विलयन सार्वत्रिक सूचक को निम्नलिखित में से कौन-सा रंग देगा ?

1

- (A) लाल
- (B) पीला
- (C) हरा
- (D) नीला



11. Consider the following criticisms that are generally addressed when a new project is launched :

- I. Displacement of peasants and local tribals without compensation.
- II. Swallowing up large amount of public money without any benefits.
- III. Deforestation and loss of biodiversity.

The criticisms about large dams in particular are

1

- (A) I and II
- (B) II and III
- (C) I and III
- (D) I, II and III

OR

Switching off unnecessary lights and fans and repairing leaking taps correctly defines which term of 5R's ?

1

- (A) Recycle
- (B) Reuse
- (C) Repurpose
- (D) Reduce

12. Strong heating of ferrous sulphate leads to the formation of a brown solid and two gases. This reaction can be categorised as

1

- (A) displacement and redox.
- (B) decomposition and redox.
- (C) displacement and endothermic.
- (D) decomposition and exothermic.

13. If 10 mL of H_2SO_4 is mixed with 10 mL of $\text{Mg}(\text{OH})_2$ of the same concentration, the resultant solution will give the following colour with universal indicator :

1

- (A) Red
- (B) Yellow
- (C) Green
- (D) Blue



14. परमाणु क्रमांक 12 का कोई तत्व X परमाणु क्रमांक 17 के किसी अन्य तत्व Y के साथ कोई यौगिक बनाता है। इस प्रकार बने यौगिक का सूत्र होगा

1

- (A) XY
 (B) XY₂
 (C) X₂Y
 (D) X₂Y₃

अथवा

कोई तत्व X अम्लीय ऑक्साइड बनाता है। इसकी आधुनिक आवर्त सारणी में सर्वाधिक संभावित स्थिति है

1

- (A) ग्रुप 1 और आवर्त 3
 (B) ग्रुप 16 और आवर्त 3
 (C) ग्रुप 17 और आवर्त 3
 (D) ग्रुप 2 और आवर्त 3

खण्ड ख

15. नीचे दी गई प्रत्येक प्रकार की अभिक्रियाओं की अपने उत्तर के कारण देते हुए पहचान कीजिए :

3

- (a) $\text{Fe}_2\text{O}_3 + 2\text{Al} \longrightarrow \text{Al}_2\text{O}_3 + 2\text{Fe} + \text{ऊष्मा}$
 (b) $\text{Pb}(\text{NO}_3)_2 + 2\text{KI} \longrightarrow \text{PbI}_2 + 2\text{KNO}_3$
 (c) $\text{ZnCO}_3 \xrightarrow{\text{ऊष्मा}} \text{ZnO} + \text{CO}_2$

16. तत्वों Li, K, Mg, C, Al, S में से पहचानिए :

- (a) समान समूह (ग्रुप) के तत्व
 (b) दो इलेक्ट्रॉन खोने की प्रवृत्ति वाला तत्व
 (c) वह तत्व जो अपना अष्टक पूरा करने के लिए इलेक्ट्रॉनों की साझेदारी को प्राथमिकता देता है
 (d) सबसे अधिक धात्विक तत्व
 (e) वह तत्व जो अम्लीय ऑक्साइड बनाता है
 (f) समूह 13 का तत्व

3



14. An element X with atomic number 12 forms a compound with element Y with atomic number 17. The formula of the compound formed is 1
- (A) XY
(B) XY₂
(C) X₂Y
(D) X₂Y₃

OR

- An element X is forming acidic oxide. Its most probable position in the modern periodic table is 1
- (A) Group 1 and Period 3
(B) Group 16 and Period 3
(C) Group 17 and Period 3
(D) Group 2 and Period 3

SECTION B

15. Identify the type of each of the following reactions stating reason for your answers : 3
- (a) $\text{Fe}_2\text{O}_3 + 2\text{Al} \longrightarrow \text{Al}_2\text{O}_3 + 2\text{Fe} + \text{heat}$
(b) $\text{Pb}(\text{NO}_3)_2 + 2\text{KI} \longrightarrow \text{PbI}_2 + 2\text{KNO}_3$
(c) $\text{ZnCO}_3 \xrightarrow{\text{heat}} \text{ZnO} + \text{CO}_2$
16. From the elements Li, K, Mg, C, Al, S identify the
- (a) elements belonging to the same group.
(b) element which has the tendency to lose two electrons.
(c) element which prefers sharing of electrons to complete its octet.
(d) most metallic element.
(e) element that forms acidic oxide.
(f) element that belongs to group 13. 3



17. जल के विद्युत्-अपघटन में

- (a) ऐनोड और कैथोड पर मुक्त होने वाली गैसों के नाम लिखिए ।
 (b) एक इलेक्ट्रोड पर मुक्त होने वाली गैस का आयतन दूसरे इलेक्ट्रोड पर मुक्त होने वाली गैस के आयतन का दुगुना क्यों होता है ?
 (c) यदि जल में तनु H_2SO_4 न मिलाएँ तो क्या होगा ?

3

अथवा

किसी रासायनिक यौगिक 'X' का उपयोग साबुन और काँच उद्योग में होता है । इसे लवण-जल (ब्राइन) से बनाया जाता है ।

- (a) 'X' का रासायनिक नाम, सामान्य नाम और रासायनिक सूत्र लिखिए ।
 (b) इसके बनने में होने वाली अभिक्रिया का समीकरण लिखिए ।
 (c) क्या होता है जब यह ऐसे जल से अभिक्रिया करता है जिसमें Ca या Mg के लवण घुले होते हैं ?

3

18. (a) नीचे दिए गए जीवों की आहार शृंखला का सृजन कीजिए :

कीट, बाज़, घास, साँप, मेंढक

- (b) इस सृजित आहार शृंखला के तृतीय पोषी स्तर के जीव का नाम लिखिए ।
 (c) इस आहार शृंखला के किस जीव में अजैव-निम्नीकरणीय रसायनों की सांद्रता अधिकतम होगी ?
 (d) इससे संबद्ध परिघटना का नाम लिखिए ।
 (e) यदि इस आहार शृंखला में मेंढकों को 10000 जूल ऊर्जा उपलब्ध है, तो साँपों को कितनी ऊर्जा उपलब्ध होगी ?

3

अथवा

- (a) पारितंत्र किसे कहते हैं ?
 (b) किन्हीं दो प्राकृतिक पारितंत्रों की सूची बनाइए ।
 (c) हम तालाबों और झीलों की सफाई नहीं करते, परन्तु किसी जलजीवशाला को नियमित सफाई की आवश्यकता होती है । क्यों ?

3

19. (a) मानव शुक्राणुओं को पोषण कौन प्रदान करता है ? शुक्राणुओं का आनुवंशिक संघटन लिखिए ।

- (b) (i) किसी मादा शिशु, तथा (ii) किसी नर शिशु का लिंग निर्धारण करने वाले युग्मनज में उपस्थित गुणसूत्रों के युगलों का उल्लेख कीजिए ।

3



17. In the electrolysis of water
- (a) Name the gases liberated at anode and cathode.
 - (b) Why is it that the volume of gas collected on one electrode is two times that on the other electrode ?
 - (c) What would happen if dil. H_2SO_4 is not added to water ? 3

OR

A chemical compound 'X' is used in the soap and glass industry. It is prepared from brine.

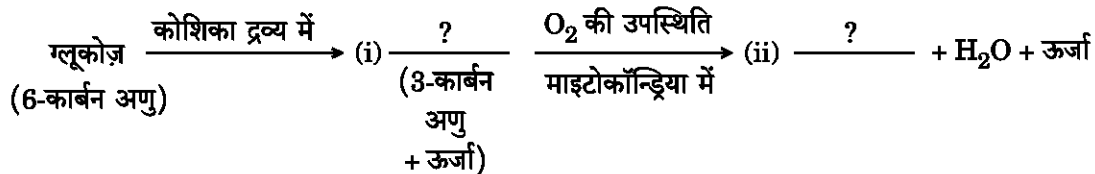
- (a) Write the chemical name, common name and chemical formula of 'X'.
 - (b) Write the equation involved in its preparation.
 - (c) What happens when it is treated with water containing Ca or Mg salts ? 3
18. (a) Create a food chain of the following organisms :
- Insect, Hawk, Grass, Snake, Frog
- (b) Name the organism at the third trophic level of the created food chain.
 - (c) Which organism of this food chain will have the highest concentration of non-biodegradable chemicals ?
 - (d) Name the phenomenon associated with it.
 - (e) If 10,000 joules of energy is available to frogs, how much energy will be available to snakes in this food chain ? 3

OR

- (a) What is an ecosystem ?
 - (b) List any two natural ecosystems.
 - (c) We do not clean ponds or lakes, but an aquarium needs to be cleaned regularly. Why ? 3
19. (a) What provides nutrition to human sperms ? State the genetic constitution of a sperm.
- (b) Mention the chromosome pair present in zygote which determines the sex of (i) a female child, and (ii) a male child. 3



20. (a) श्वसन प्रक्रिया में कूपिका के कार्य का उल्लेख कीजिए ।
 (b) स्थलीय जीवों की अपेक्षा जलीय जीवों की श्वास दर बहुत अधिक (द्रुत) होती है । इसका कारण दीजिए ।
 (c) ग्लूकोज़ के विखण्डन को दर्शाने वाले निम्नलिखित पथ को पूरा कीजिए : 3



21. (a) जब किसी लम्बे मटर के पौधे का किसी बौने मटर के पौधे से संकरण कराया जाता है तो F1 पीढ़ी के सभी पौधे सदैव लम्बे ही क्यों होते हैं ?
 (b) F1 संतति के पौधों का स्वपरागण कराने पर प्राप्त F2 संतति के पौधे F1 संतति के पौधों से किस प्रकार भिन्न होते हैं ? इस प्रेक्षण का कारण दीजिए ।
 (c) इस प्रेक्षण के आधार पर निकाला जा सकने वाला एक निष्कर्ष लिखिए । 3

22. निम्नलिखित प्रत्येक प्रकरण में यह दर्शाने के लिए किरण आरेख खींचिए कि परावर्तन के पश्चात् उस आपतित किरण का क्या होता है जब वह

- (a) किसी उत्तल दर्पण पर उसके मुख्य अक्ष के समान्तर आपतन करती है ।
 (b) किसी अवतल दर्पण पर उसके मुख्य फोकस से गुज़रते हुए आपतन करती है ।
 (c) किसी उत्तल दर्पण के ध्रुव पर दर्पण के मुख्य अक्ष के तिर्यक आती हुई आपतन करती है । 3

23. कोई छात्र -2.5 m फोकस दूरी के चश्मे का उपयोग करता है ।

- (a) उसके दृष्टि दोष का नाम लिखिए ।
 (b) इस दोष के संशोधन के लिए कौन-से लेंस का उपयोग किया जाता है ?
 (c) इस दृष्टि दोष के होने के दो प्रमुख कारणों की सूची बनाइए ।
 (d) इस लेंस की शक्ति परिकलित कीजिए । 3

अथवा

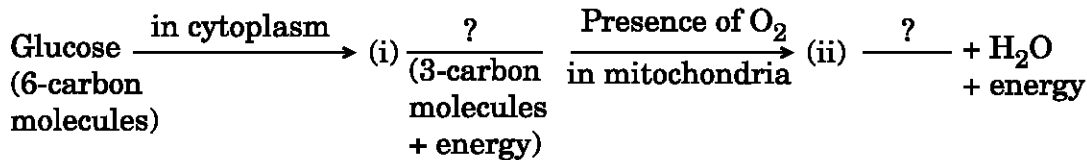
कारण दीजिए :

- (a) खतरे के संकेत (सिग्नलों) के लिए लाल रंग चुना जाता है ।
 (b) अंतरिक्ष में आकाश काला प्रतीत होता है ।
 (c) वास्तविक सूर्यास्त और आभासी सूर्यास्त के बीच समय का अन्तर लगभग 2 मिनट है । 3

24. (a) किसी धारावाही वृत्ताकार पाश (लूप) के चुम्बकीय क्षेत्र के कारण इस पाश के भीतर और बाहर चुम्बकीय क्षेत्र रेखाओं का पैटर्न खींचिए ।
 (b) इस पाश के भीतर और बाहर के चुम्बकीय क्षेत्र की दिशा ज्ञात करने के नियम का नाम लिखिए और इस नियम का उल्लेख कीजिए । 3



20. (a) In the process of respiration, state the function of alveoli.
 (b) Rate of breathing in aquatic organisms is much faster than that in terrestrial organisms. Give reasons.
 (c) Complete the following pathway showing the breakdown of glucose : 3



21. (a) Why is the F1 progeny always of tall plants when a tall pea plant is crossed with a short pea plant ?
 (b) How is F2 progeny obtained by self-pollination of F1 progeny different from F1 progeny ? Give reason for this observation.
 (c) State a conclusion that can be drawn on the basis of this observation. 3

22. Draw ray diagram in each of the following cases to show what happens after reflection to the incident ray when

- (a) it is parallel to the principal axis and falling on a convex mirror.
 (b) it is falling on a concave mirror while passing through its principal focus.
 (c) it is coming oblique to the principal axis and falling on the pole of a convex mirror. 3

23. A student uses spectacles of focal length – 2.5 m.

- (a) Name the defect of vision he is suffering from.
 (b) Which lens is used for the correction of this defect ?
 (c) List two main causes of developing this defect.
 (d) Compute the power of this lens. 3

OR

Give reasons :

- (a) Red colour is selected for danger signals.
 (b) The sky appears dark in space.
 (c) The time difference between actual sunset and apparent sunset is about 2 minutes. 3

24. (a) Draw the pattern of magnetic field lines due to a magnetic field through and around a current carrying circular loop.
 (b) Name and state the rule to find out the direction of magnetic field inside and around the loop. 3



खण्ड ग

25. (a) समावयवता की परिभाषा दीजिए। ब्यूटेन के सभी संभावित समावयव खींचिए।
- (b) “कोई यौगिक ‘X’ दहन होने पर अत्यधिक धुएँ के साथ पीली ज्वाला देता है।” इस कथन से आप क्या निष्कर्ष निकालते हैं ?
- (c) किसी ऐल्कोहॉल को तदनु रूपी कार्बोक्सिलिक अम्ल में परिवर्तित करने की अभिक्रिया में क्षारीय KMnO_4 की भूमिका का उल्लेख कीजिए।

5

26. (a) अमलगम किसे कहते हैं ?
- (b) विद्युत् फ्यूज बनाने में सोल्डर का उपयोग क्यों किया जाता है ?
- (c) गैल्वनीकरण (यशदलेपन) किसे कहते हैं ? इसका महत्त्व लिखिए।
- (d) कॉपर के विद्युत्-अपघटनी परिष्करण में उपयोग होने वाले ऐनोड एवं कैथोड तथा सेल में लिए जाने वाले विद्युत्-अपघट्य का नाम लिखिए।

5

अथवा

- (a) इलेक्ट्रॉन-बिन्दु संरचना द्वारा आयनी यौगिक ऐलुमिनियम ऑक्साइड (Al_2O_3) के बनने की व्याख्या कीजिए।
(दिया गया है : Al और O के परमाणु क्रमांक क्रमशः 13 और 8 हैं)
- (b) क्या होता है जब (केवल प्रेक्षण लिखिए)
- (i) कोई क्रियाशील धातु तनु खनिज अम्ल से अभिक्रिया करती है ?
- (ii) कोई उभयधर्मी ऑक्साइड सोडियम हाइड्रॉक्साइड विलयन से अभिक्रिया करता है ?
- (iii) किसी निम्न अभिक्रियाशीलता की धातु को उच्च अभिक्रियाशीलता की धातु के लवण विलयन में डाला जाता है ?
- (iv) किसी धातु के कार्बोनेट की अम्ल से अभिक्रिया होती है ?

5

27. (a) विवाहित युगलों द्वारा गर्भनिरोधक विधियों का उपयोग करने के दो कारणों की सूची बनाइए।
- (b) मानव मादा के जनन तंत्र में, अण्ड निर्माण से शिशु के जन्म लेने की अवधि तक, विभिन्न अंगों में होने वाली प्रक्रियाओं को उचित क्रम में लिखिए।

5

अथवा



SECTION C

25. (a) Define isomerism. Draw all possible isomers of butane.
- (b) "A compound 'X' on combustion gives a yellow flame with lots of smoke." What inference would you draw from this statement ?
- (c) State the role of alkaline KMnO_4 in the reaction involving conversion of an alcohol to corresponding carboxylic acid. 5
26. (a) What is an amalgam ?
- (b) Why is solder used for making electrical fuse ?
- (c) What is galvanisation ? State its significance.
- (d) In the electrolytic refining of copper, name the anode and cathode used and the electrolyte taken in the cell. 5

OR

- (a) Explain the formation of ionic compound, Al_2O_3 with electron-dot structure :
(Given : Atomic no. of Al and O are 13 and 8 respectively)
- (b) What happens when (Report only observations)
- (i) a reactive metal reacts with a dilute mineral acid ?
- (ii) an amphoteric oxide reacts with sodium hydroxide solution ?
- (iii) a metal of low reactivity is dropped in the salt solution of a metal of high reactivity ?
- (iv) a metal carbonate is treated with acid ? 5
27. (a) List two reasons of using contraceptive methods by married couples.
- (b) Write in proper sequence the processes going on in the different organs of the reproductive system of a human female starting from the time of egg production to childbirth. 5

OR

- (a) नीचे दिए गए प्रत्येक जीव में अलैंगिक जनन की विधाओं की पहचान कीजिए :
- हाइड्रा
 - प्लैनेरिया
 - अमीबा
 - स्पाइरोगाइरा
 - राइज़ोपस
- (b) कायिक प्रवर्धन के तीन लाभों की सूची बनाइए ।
- (c) पुष्पों में यदि परागण न हो, तो निषेचन क्यों नहीं हो सकता ?

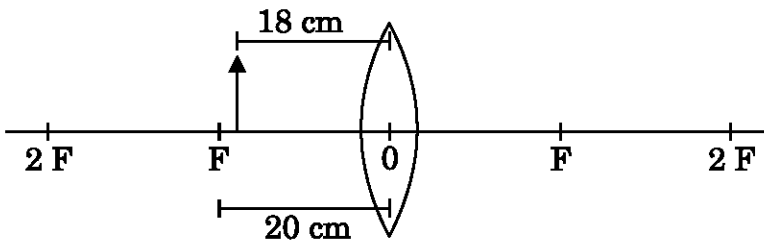
5

28. कारण दीजिए :

- अलिन्द की तुलना में निलय की पेशीय भित्तियाँ मोटी होती हैं ।
- पौधों में परिवहन निकाय धीमा होता है ।
- जलीय कशेरुकियों में रुधिर परिसंचरण स्थलीय कशेरुकियों में रुधिर परिसंचरण से भिन्न होता है ।
- दिन में ज़ाइलम में जल और खनिजों की गति रात्रि की तुलना में अधिक होती है ।
- शिराओं में वाल्व होते हैं जबकि धमनियों में नहीं होते ।

5

29. (a) नीचे दिए गए किरण आरेख को पूरा कीजिए :



- बनने वाले प्रतिबिम्ब की प्रकृति, स्थिति और साइज़ ज्ञात कीजिए ।
- लेंस सूत्र का उपयोग करके इस प्रकरण में आवर्धन निर्धारित कीजिए ।

5

अथवा



- (a) Identify the modes of asexual reproduction in each of the following organisms :
- Hydra
 - Planaria
 - Amoeba
 - Spirogyra
 - Rhizopus
- (b) List three advantages of vegetative propagation.
- (c) Why can fertilisation not take place in flowers if pollination does not occur ?

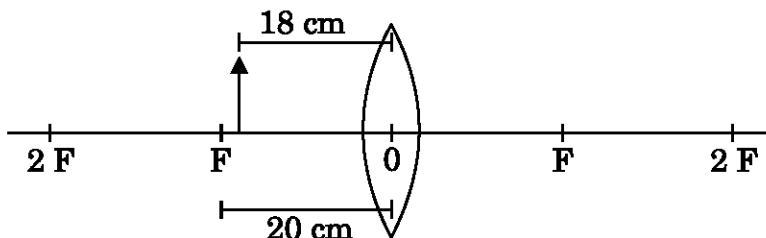
5

28. Give reasons :

- Ventricles have thicker muscular walls than atria.
- Transport system in plants is slow.
- Circulation of blood in aquatic vertebrates differs from that in terrestrial vertebrates.
- During the daytime, water and minerals travel faster through xylem as compared to the night.
- Veins have valves whereas arteries do not.

5

29. (a) Complete the following ray diagram :



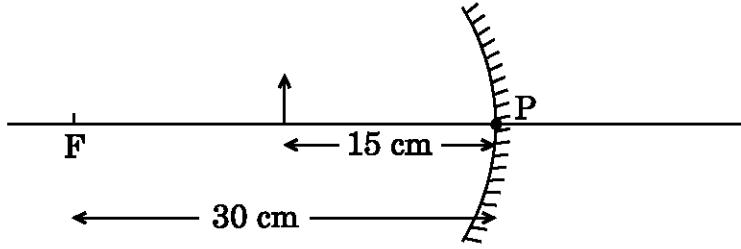
- Find the nature, position and size of the image formed.
- Use lens formula to determine the magnification in this case.

5

OR



- (a) नीचे दिए गए किरण आरेख को पूरा कीजिए :



- (b) बनने वाले प्रतिबिम्ब की प्रकृति, स्थिति और साइज़ ज्ञात कीजिए ।
 (c) दर्पण सूत्र का उपयोग करके इस प्रकरण में आवर्धन निर्धारित कीजिए ।

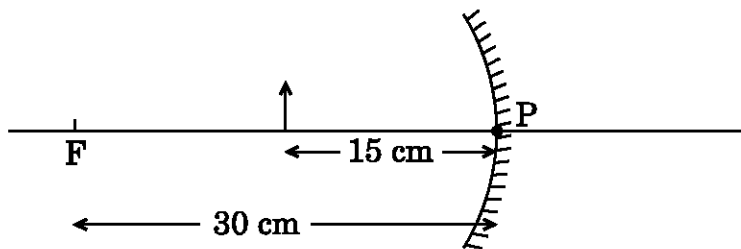
5

30. (a) 100 W, 220 V तथा 10 W, 220 V अनुमतांक के दो लैम्प 220 V की आपूर्ति से पार्श्व में संयोजित हैं । इस परिपथ से प्रवाहित कुल धारा परिकलित कीजिए ।
 (b) दो प्रतिरोधकों X और Y, जिनके प्रतिरोध क्रमशः 2Ω और 3Ω हैं, को पहले पार्श्व में और फिर श्रेणी में संयोजित किया गया है । प्रत्येक प्रकरण में आपूर्ति की वोल्टता 5 V है ।
 (i) प्रत्येक प्रकरण में प्रतिरोधकों के संयोजन को दर्शाने के लिए परिपथ आरेख खींचिए ।
 (ii) प्रतिरोधकों के श्रेणी संयोजन में 3Ω के प्रतिरोधक के सिरो पर वोल्टता परिकलित कीजिए ।

5



- (a) Complete the following ray diagram :



- (b) Find the nature, position and size of the image formed.
 (c) Use mirror formula to determine the magnification in this case. 5

30. (a) Two lamps rated 100 W, 220 V and 10 W, 220 V are connected in parallel to 220 V supply. Calculate the total current through the circuit.

(b) Two resistors X and Y of resistances $2\ \Omega$ and $3\ \Omega$ respectively are first joined in parallel and then in series. In each case the voltage supplied is 5 V.

- (i) Draw circuit diagrams to show the combination of resistors in each case.
 (ii) Calculate the voltage across the $3\ \Omega$ resistor in the series combination of resistors. 5

