

SET – 2

Series : HRK/C

ਕੋਡ ਨੰ. 40/2

ਰੋਲ ਨੰਬਰ

--	--	--	--	--	--	--

Candidates must write the Code on the title page of the answer-book.

- ਕਿਰਪਾ ਕਰਕੇ ਨਿਰੀਖਣ ਕਰ ਲਵੋ ਕਿ ਇਸ ਪ੍ਰਸ਼ਨ ਪੱਤਰ ਵਿਚ ਛਪੇ ਹੋਏ 7 ਪੰਨੇ ਹਨ ।
- ਪ੍ਰਸ਼ਨ ਪੱਤਰ ਦੇ ਉੱਪਰ ਸੱਜੇ ਹੱਥ ਦਿੱਤੇ ਕੋਡ ਨੰ. ਨੂੰ ਪ੍ਰੀਖਿਆਰਥੀ ਉੱਤਰ ਪੁਸਤਿਕਾ ਦੇ ਮੁੱਖ ਪੰਨੇ ਤੇ ਜ਼ਰੂਰ ਲਿੱਖਣ ।
- ਕਿਰਪਾ ਕਰਕੇ ਦੇਖ ਲਵੋ ਕਿ ਇਸ ਪ੍ਰਸ਼ਨ ਪੱਤਰ ਵਿੱਚ 31 ਪ੍ਰਸ਼ਨ ਹਨ ।
- ਕਿਰਪਾ ਕਰਕੇ ਉੱਤਰ ਲਿਖਣਾ ਸ਼ੁਰੂ ਕਰਨ ਤੋਂ ਪਹਿਲਾਂ ਦਾ ਕ੍ਰਮਾਂਕ (ਸੀਰੀਅਲ ਨੰਬਰ) ਜ਼ਰੂਰ ਲਿੱਖੋ ।
- ਇਸ ਪ੍ਰਸ਼ਨ ਪੱਤਰ ਨੂੰ ਪੜ੍ਹਨ ਦੇ ਲਈ 15 ਮਿੰਟ ਦਾ ਸਮਾਂ ਦਿੱਤਾ ਗਿਆ ਹੈ । ਪ੍ਰਸ਼ਨ ਪੱਤਰ ਸਵੇਰੇ 10.15 ਵਜੇ ਵੰਡੇ ਜਾਣਗੇ । 10.15 ਵਜੇ ਤੋਂ 10.30 ਵਜੇ ਤੱਕ ਪ੍ਰੀਖਿਆਰਥੀ ਕੇਵਲ ਪ੍ਰਸ਼ਨ ਪੱਤਰ ਨੂੰ ਪੜ੍ਹਨਗੇ ਅਤੇ ਇਸ ਸਮੇਂ ਵਿੱਚ ਉਹ ਉੱਤਰ ਪੁਸਤਿਕਾ ਵਿੱਚ ਕੋਈ ਉੱਤਰ ਨਹੀਂ ਲਿਖਣਗੇ ।
- Please check that this question paper contains 7 printed pages.
- Code number given on the right hand side of the question paper should be written on the title page of the answer-book by the candidate.
- Please check that this question paper contains 31 questions.
- **Please write down the Serial Number of the question before attempting it.**
- 15 minute time has been allotted to read this question paper. The question paper will be distributed at 10.15 a.m. From 10.15 a.m. to 10.30 a.m., the students will read the question paper only and will not write any answer on the answer-book during this period.

ਸੰਕਲਿਤ ਪ੍ਰੀਖਿਆ – II

SUMMATIVE ASSESSMENT – II

ਗਣਿਤ

(ਪੰਜਾਬੀ ਉਲਥਾ)

MATHEMATICS

(Punjabi Version)

ਸਮਾਂ ਸੀਮਾਂ : 3 ਘੰਟੇ

ਪੂਰਨ ਅੰਕ : 90

Time allowed : 3 hours

Maximum Marks : 90

ਵਿਆਪਕ ਨਿਰਦੇਸ਼ :

(i) ਸਾਰੇ ਪ੍ਰਸ਼ਨ ਜ਼ਰੂਰੀ ਹਨ ।

40/2

1

[P.T.O.]

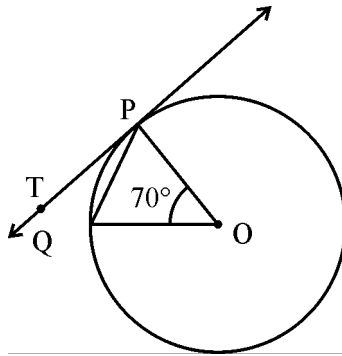
- (ii) ਇਸ ਪ੍ਰਸ਼ਨ ਪੜ੍ਹ ਵਿੱਚ ਕੁਲ 31 ਪ੍ਰਸ਼ਨ ਹਨ ਜੋ ਚਾਰ ਖੰਡਾਂ – ਅ, ਬ, ਸ ਅਤੇ ਦ ਵਿੱਚ ਵੰਡੇ ਹੋਏ ਹਨ ।
- (iii) ਖੰਡ ਅ ਵਿੱਚ ਇੱਕ-ਇੱਕ ਅੰਕ ਵਾਲੇ 4 ਪ੍ਰਸ਼ਨ ਹਨ । ਖੰਡ ਬ ਵਿੱਚ 6 ਪ੍ਰਸ਼ਨ ਹਨ ਜਿਨ੍ਹਾਂ ਵਿੱਚੋਂ ਹਰ ਇਕ ਪ੍ਰਸ਼ਨ 2 ਅੰਕ ਦਾ ਹੈ । ਖੰਡ ਸ ਵਿੱਚ 10 ਪ੍ਰਸ਼ਨ ਹਨ ਜਿਨ੍ਹਾਂ ਵਿੱਚੋਂ ਹਰ ਪ੍ਰਸ਼ਨ ਤਿੰਨ-ਤਿੰਨ ਅੰਕ ਦਾ ਹੈ । ਖੰਡ ਦ ਵਿੱਚ 11 ਪ੍ਰਸ਼ਨ ਹਨ ਜਿਨ੍ਹਾਂ ਵਿੱਚੋਂ ਹਰ ਇਕ 4 ਅੰਕ ਦਾ ਹੈ ।
- (iv) ਕੈਲਕੁਲੇਟਰ ਆਦਿ ਦੀ ਵਰਤੋਂ ਦੀ ਮਨਾਹੀ ਹੈ ।

ਖੰਡ – ਅ

SECTION – A

ਪ੍ਰਸ਼ਨ ਸੰਖਿਆ 1 ਤੋਂ 4 ਤਕ ਹਰ ਇਕ ਪ੍ਰਸ਼ਨ 1 ਅੰਕ ਦਾ ਹੈ ।

1. ਜੇਕਰ ਤਿੰਨ ਵੱਖੋ ਵੱਖਰੇ ਸਿੱਕੇ ਇੱਕਠੇ ਉਛਾਲੇ ਜਾਂਦੇ ਹੋਣ, ਤਾਂ ਘਟੋ ਘਟ ਦੋ ਚਿੱਤ (head) ਆਣ ਦੀ ਸੰਭਾਵਨਾ ਪਤਾ ਕਰੋ ।
2. ਜੇਕਰ ਇਕ ਅੰਕਗਣਿਤਿਕ ਲੜੀ $-1, 4, 9, 14, \dots$ ਦਾ n ਵਾਂ ਪਦ 129 ਹੈ, ਤਾਂ n ਦਾ ਮਾਨ ਪਤਾ ਕਰੋ ।
3. ਜੇਕਰ ਕਿਸੇ 30 ਮੀ: ਉੱਚੀ ਮੀਨਾਰ ਦੇ ਦਿਨ ਦੇ ਕਿਸੇ ਸਮੇਂ ਧਰਤੀ ਉਪਰ ਪੈਰਹੇ ਪਰਛਾਵੇਂ ਦੀ ਲੰਬਾਈ $10\sqrt{3}$ ਮੀ: ਹੈ; ਤਾਂ ਉਸ ਸਮੇਂ ਸੂਰਜ ਦਾ ਉਚਾਣ ਕੋਣ ਪਤਾ ਕਰੋ ।
4. ਚਿੱਤਰ 1 ਵਿੱਚ O ਇਕ ਚੱਕਰ ਦਾ ਕੇਂਦਰ ਹੈ, PQ ਉਸ ਚੱਕਰ ਦੀ ਇਕ ਵਰਤ (ਜੀਵਾ) ਹੈ ਅਤੇ PT ਚੱਕਰ ਦੀ ਬਿੰਦੂ P ਉਪਰ ਸਪਰਸ਼ ਰੇਖਾ ਹੈ । ਜੇਕਰ $\angle POQ = 70^\circ$ ਤਾਂ $\angle TPQ$ ਪਤਾ ਕਰੋ ।



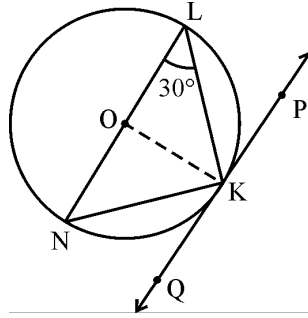
(ਚਿੱਤਰ - 1)

ਖੰਡ - ਬ

SECTION - B

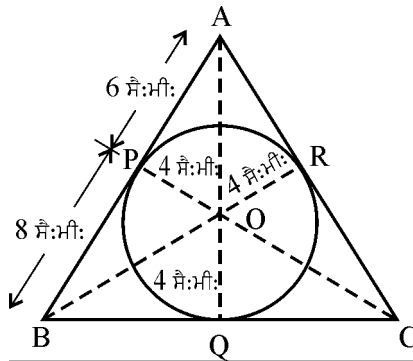
ਪ੍ਰਸ਼ਨ ਸੰਖਿਆ 5 ਤੋਂ 10 ਤਕ ਹਰ ਇਕ ਪ੍ਰਸ਼ਨ 2 ਅੰਕ ਦਾ ਹੈ ।

5. ਚਿੱਤਰ 2 ਵਿਚ O ਚੱਕਰ ਦਾ ਕੇਂਦਰ ਹੈ ਅਤੇ LN ਇਕ ਵਿਆਸ ਹੈ । ਜੇਕਰ ਚੱਕਰ ਦੇ ਬਿੰਦੂ K ਉਪਰ PQ ਇਕ ਸਪਰਸ਼ ਰੇਖਾ ਹੈ ਅਤੇ $\angle KLN = 30^\circ$ ਹੈ, ਤਾਂ $\angle PKL$ ਪਤਾ ਕਰੋ ।



(ਚਿੱਤਰ - 2)

6. ਜੇਕਰ ਬਿੰਦੂ (x, y) ਬਿੰਦੂਆਂ $(a + b, b - a)$ ਅਤੇ $(a - b, a + b)$ ਤੋਂ ਬਰਾਬਰ ਦੂਰੀ ਤੇ ਹੈ, ਤਾਂ ਸਿੱਧ ਕਰੋ ਕਿ $bx = ay$.
7. ਬਿੰਦੂਆਂ $A(2, 1)$ ਅਤੇ $B(5, -8)$ ਨੂੰ ਮਿਲਾਣ ਵਾਲਾ ਰੇਖਾਖੰਡ ਬਿੰਦੂਆਂ P ਅਤੇ Q ਉਪਰ ਤਿੰਨ ਬਰਾਬਰ ਹਿੱਸਿਆਂ ਵਿਚ ਵੰਡਿਆ ਜਾਂਦਾ ਹੈ । P ਦੇ ਨਿਰਦੇਸ਼ ਅੰਕ ਪਤਾ ਕਰੋ ।
8. ਇਕ ਤ੍ਰਿਭੁਜ $\triangle ABC$ ਜਿਸਦਾ ਖੇਤਰਫਲ 84 ਵਰਗ ਸੈ:ਮੀ: ਹੈ ਦੇ ਅੰਦਰ ਛੂਹਦੇ ਚੱਕਰ ਦਾ ਅਰਧ ਵਿਆਸ 4 ਸੈ:ਮੀ: ਹੈ ਅਤੇ ਉਨ੍ਹਾਂ ਦੇ ਰੇਖਾ ਖੰਡਾ AP ਅਤੇ BP ਦੀਆਂ ਲੰਬਾਈਆਂ, ਜਿਨ੍ਹਾਂ ਵਿਚ ਭੁਜਾ AB ਸਪਰਸ਼ ਬਿੰਦੂ P ਰਾਹੀਂ ਵੰਡੀ ਜਾਂਦੀ ਹੈ, 6 ਸੈ:ਮੀ: ਅਤੇ 8 ਸੈ:ਮੀ: ਹਨ । ਭੁਜਾਵਾਂ AC ਅਤੇ BC ਦੀਆਂ ਲੰਬਾਈਆਂ ਪਤਾ ਕਰੋ ।



(ਚਿੱਤਰ- 3)

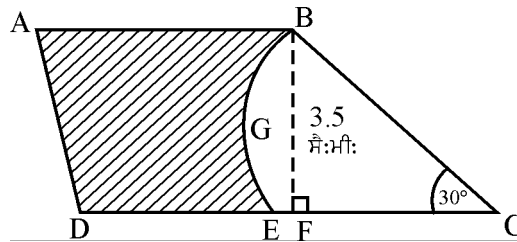
9. ਪਤਾ ਕਰੋ ਕਿ k ਦੇ ਕਿਸ ਮਾਨ ਦੇ ਲਈ ਦੋ ਆਤੀ ਸਮੀਕਰਣ $2x^2 + kx + 8 = 0$ ਦੇ ਮੂਲ ਬਰਾਬਰ ਹੋਣਗੇ ?
10. ਇਕ ਅੰਕ ਗਣਿਤਿਕ ਲੜੀ ਦਾ 5 ਵਾਂ ਪਦ 26 ਹੈ ਅਤੇ ਇਸਦਾ 10 ਵਾਂ ਪਦ 51 ਹੈ । ਲੜੀ ਪਤਾ ਕਰੋ ।

ਖੰਡ – ਸ

SECTION – C

ਪ੍ਰਸ਼ਨ ਸੰਖਿਆ 11 ਤੋਂ 20 ਤਕ ਹਰ ਇਕ ਪ੍ਰਸ਼ਨ 3 ਅੰਕ ਦਾ ਹੈ ।

11. 6 ਮੀ. ਚੌੜੀ ਅਤੇ 1.5 ਮੀ: ਡੂੰਘੀ ਇਕ ਨੈਹਰ ਵਿਚ ਪਾਣੀ 10 ਕਿ:ਮੀ: ਪ੍ਰਤੀ ਘੰਟਾ ਦੀ ਚਾਲ ਨਾਲ ਵਗ ਰਿਹਾ ਹੈ । 30ਮਿੰਟ ਵਿਚ ਇਹ ਨੈਹਰ ਕਿਤਨੇ ਖੇਤਰਵਲ ਦੀ ਸਿੰਚਾਈ ਕਰ ਸਕੇਗੀ, ਜਦਕਿ ਸਿੰਜਾਈ ਦੇ ਲਈ 8 ਸੈ:ਮੀ: ਪਾਣੀ ਦੀ ਲੋੜ ਹੈ ।
12. ਚਿੱਤਰ 4 ਵਿਚ ABCD ਇਕ ਸਮਲੰਬ ਹੈ ਜਿਸ ਵਿਚ $AB \parallel DC$ ਹੈ ਅਤੇ $\angle BCD = 30^\circ$ ਹੈ । BGEC ਇਕ ਚੱਕਰ, ਜਿਸਦਾ ਕੇਂਦਰ C ਹੈ, ਦਾ ਇਕ ਅਰਧਵਿਆਸੀ ਖੰਡ ਹੈ । ਜੇਕਰ $AB = BC = 7$ ਸੈ:ਮੀ: ਅਤੇ $DE = 4$ ਸੈ:ਮੀ: ਅਤੇ $BF = 3.5$ ਸੈ:ਮੀ: ਹੈ ਤਾਂ ਛਾਇਆਕ੍ਰਿਤ (ਸ਼ੇਡਿਡ) ਭਾਗ ਦਾ ਖੇਤਰਫਲ ਪਤਾ ਕਰੋ । ($\pi = \frac{22}{7}$ ਲਉ)



(ਚਿੱਤਰ - 4)

13. 144 ਬਾਲ ਪੈਨਾਂ ਦੇ ਇਕ ਸਮੂਹ ਵਿਚ 20 ਬਾਲ ਪੈਨ ਖਰਾਬ ਹਨ । ਗਾਹਕ ਉਹੀ ਬਾਲਪੈਨ ਖਰੀਦੇਗਾ ਜੋ ਸਹੀ ਹੈ ਅਤੇ ਖਰਾਬ ਬਾਲ ਪੈਨ ਨਹੀਂ ਖਰੀਦੇਗਾ । ਦੁਕਾਨਦਾਰ ਇਨ੍ਹਾ ਬਾਲ ਪੈਨਾਂ ਵਿਚੋਂ ਬਿਨਾ ਸੋਚੇ ਵਿਚਾਰੇ ਅਚਾਨਕ ਇਕ ਪੈਨ ਕਢ ਕੇ ਗਾਹਕ ਨੂੰ ਦਿੰਦਾ ਹੈ । ਇਸਦੀ ਕੀ ਸੰਭਾਵਨਾ ਹੈ ਕਿ
- (i) ਗਾਹਕ ਬਾਲਪੈਨ ਖਰੀਦੇਗਾ
- (ii) ਗਾਹਕ ਬਾਲਪੈਨ ਨਹੀਂ ਖਰੀਦੇਗਾ

14. ਰਾਮਪਾਲ ਨੇ ਵਿਕਲਾਂਗਾਂ ਦੀ ਭਲਾਈ ਦੇ ਲਈ ਬਣੇ ਇਕ ਕੇਂਦਰ ਨੂੰ 10 ਟੈਂਟਾਂ ਦੇ ਲਈ ਕੈਨਵਸ ਦੇਣ ਦਾ ਵਿਚਾਰ ਕੀਤਾ । ਹਰ ਇਕ ਟੈਂਟ ਸ਼ੰਕੂ ਆਕਾਰ ਦਾ ਹੈ ਜਿਸਦੇ ਆਧਾਰ ਦਾ ਵਿਆਸ 14 ਮੀ. ਅਤੇ ਉਚਾਈ 24 ਮੀ. ਹੈ । ਜੇਕਰ ਦੋ ਮੀਟਰ ਚੌੜੇ ਕੈਨਵਸ ਦਾ ਮੁੱਲ ₹ 40 ਪ੍ਰਤੀ ਮੀ: ਹੈ, ਤਾਂ ਰਾਮਪਾਲ ਰਾਹੀਂ ਕੇਂਦਰ ਨੂੰ ਕਿਤਨੇ ਰੁਪਏ ਦੀ ਮਦਦ ਕੀਤੀ ਗਈ ?
15. ਇਕ ਠੋਸ ਬੇਲਨ (ਸਿਲੰਡਰ) ਜਿਸਦੀ ਉਚਾਈ 8 ਸੈ:ਮੀ: ਅਤੇ ਅਰਧ ਵਿਆਸ 6 ਸੈ:ਮੀ: ਹੈ, ਵਿੱਚੋਂ ਉਸ ਹੀ ਉਚਾਈ ਅਤੇ ਉਸ ਹੀ ਅਰਧ ਵਿਆਸ ਦਾ ਸ਼ੰਕੂ ਆਕਾਰ ਖੋਲ ਕਟਲਿਆ ਗਿਆ ਹੈ, ਬਾਕੀ ਬਚੇ ਠੋਸ ਦਾ ਕੁਲ ਸਤਹੀ ਖੇਤਰਫਲ ਪਤਾ ਕਰੋ । ($\pi = 3.14$ ਲਉ)
16. ਧਰਤੀ ਦੇ ਇਕ ਬਿੰਦੂ ਤੋਂ 20 ਮੀਟਰ ਉੱਚੀ ਇਕ ਇਮਾਰਤ ਦੇ ਸਿਖਰ ਉਪਰ ਲੱਗੀ ਹੋਈ ਸੰਚਾਰ ਮੀਨਾਰ ਦੇ ਆਧਾਰ ਅਤੇ ਸਿਖਰ ਦੇ ਉਚਾਣ ਕੋਣ ਕਰਮਵਾਰ 45° ਅਤੇ 60° ਹਨ । ਮੀਨਾਰ ਦੀ ਉਚਾਈ ਪਤਾ ਕਰੋ ।
17. ਇਕ ਤਾਰ ਨੂੰ ਇਕ ਸਮਬਾਹੁ ਤ੍ਰਿਭੁਜ ਦੇ ਅਕਾਰ ਵਿਚ ਮੋੜਨ ਤੇ ਉਹ $121\sqrt{3}$ ਵਰਗ ਸੈ:ਮੀ: ਦਾ ਖੇਤਰਫਲ ਘੇਰਦੀ ਹੈ । ਜੇਕਰ ਇਸ ਹੀ ਨੂੰ ਚੱਕਰ ਆਕਾਰ ਵਿਚ ਮੋੜਿਆ ਜਾਏ ਤਾਂ ਉਸ ਰਾਹੀਂ ਘੇਰਿਆ ਜਾਣ ਵਾਲਾ ਖੇਤਰਫਲ ਪਤਾ ਕਰੋ । ($\pi = \frac{22}{7}$ ਲਉ)
18. 300 ਅਤੇ 700 ਦੇ ਦਰਮਿਆਨ ਆਣ ਵਾਲੇ 9 ਦੇ ਗੁਣਜਾਂ ਦੀ ਸੰਖਿਆਂ ਪਤਾ ਕਰੋ ।
19. ਉਨ੍ਹਾਂ ਬਿੰਦੂਆਂ ਦੇ ਨਿਰਦੇਸ਼-ਅੰਕ ਪਤਾ ਕਰੋ ਜਿਹੜੇ ਬਿੰਦੂਆਂ (5, 7) ਅਤੇ (8, 10) ਨੂੰ ਮਿਲਾਣ ਵਾਲੇ ਰੇਖਾ ਖੰਡ ਨੂੰ ਤਿੰਨ ਸਮਾਨ ਭਾਗਾਂ ਵਿਚ ਵੰਡਦੇ ਹਨ ।
20. x ਦੇ ਲਈ ਹਲ ਕਰੋ : $2x^2 + \sqrt{3}x - 3 = 0$

ਖੰਡ – ਦ

SECTION – D

ਪ੍ਰਸ਼ਨ ਸੰਖਿਆ 21 ਤੋਂ 31 ਤਕ ਹਰ ਇਕ ਪ੍ਰਸ਼ਨ 4 ਅੰਕ ਦਾ ਹੈ ।

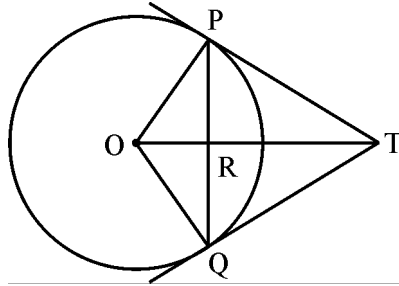
21. 12 ਸੈ:ਮੀ: ਵਿਆਸ ਅਤੇ 15 ਸੈ:ਮੀ: ਉਚਾਈ ਦੇ ਧਾਤ ਦੇ ਇਕ ਠੋਸ ਬੇਲਨ (ਸਿਲੰਡਰ) ਨੂੰ ਪਿੰਘਲਾ ਕੇ ਕੁਝ ਇਕੋ ਪ੍ਰਕਾਰ ਦੇ ਖਿਡੋਣੇ ਬਣਾਏ ਜਾਂਦੇ ਹਨ ਜਿਹੜੇ 3 ਸੈ:ਮੀ: ਅਰਧਵਿਆਸ ਸ਼ੰਕੂ ਦੇ ਆਕਾਰ ਦੇ ਹਨ । ਜੇਕਰ ਇਕ ਖਿਡੋਣੇ ਦੀ ਉਚਾਈ 9 ਸੈ:ਮੀ: ਹੈ, ਤਾਂ ਇਸ ਤਰ੍ਹਾਂ ਬਣਨ ਵਾਲੇ ਖਿਡੋਣਿਆਂ ਦੀ ਗਿਣਤੀ ਪਤਾ ਕਰੋ ।

22. ਇੱਕ ਬਾਲਟੀ ਸ਼ੰਕੂ ਦੇ ਛਿੰਨਕ ਦੇ ਆਕਾਰ ਦੀ ਹੈ ਜਿਸਦੀ ਉਚਾਈ 42 ਸੈ:ਮੀ: ਹੈ ਅਤੇ ਚੱਕਰਾਕਾਰ ਸਿਰਿਆਂ ਦੇ ਅਰਧ ਵਿਆਸ 30 ਸੈ:ਮੀ: ਅਤੇ 10 ਸੈ:ਮੀ: ਹਨ । ਪਤਾ ਕਰੋ ਇਸ ਬਾਲਟੀ ਵਿਚ ਕਿਤਨੇ ਲੀਟਰ ਦੁਧ ਆਏਗਾ ਅਤੇ 40 ਰੁ: ਪਤੀ ਲੀਟਰ ਦੇ ਦਰ ਨਾਲ ਵੇਚਣ ਤੇ ਕਿਤਨਾ ਧਨ ਮਿਲੇਗਾ ?

ਜੇਕਰ ਦੁਧ ਵਾਲਾ ਅਧਾ ਦੁਧ ਆਰਥਕ ਰੂਪ ਵਿਚ ਕਮਜ਼ੋਰ ਵਰਗ ਦੇ ਲੋਕਾਂ ਨੂੰ ਘਟ ਦਰ ਨਾਲ ਵੇਚਦਾ ਹੈ ਤਾਂ ਅਜੇਹਾ ਕਰਕੇ ਉਹ ਕਿਸ ਮੁੱਲ ਨੂੰ ਦਰਸਾਂਦਾ ਹੈ ?

23. x ਦੇ ਲਈ ਹਲ ਕਰੋ : $\frac{1}{x-2} + \frac{2}{x-1} = \frac{6}{x}, x \neq 0, 1, 2$

24. ਚਿੱਤਰ 5 ਵਿਚ, 5 ਸੈ:ਮੀ: ਅਰਧ ਵਿਆਸ ਦੇ ਇੱਕ ਚੱਕਰ ਦੀ ਇੱਕ 8 ਸੈ:ਮੀ: ਲੰਬੀ ਵਤਰ (ਜੀਵਾ) PQ ਹੈ । P ਅਤੇ Q ਉਪਰ ਖਿੱਚੀਆਂ ਗਈਆਂ ਸਪਰਸ਼ ਰੇਖਾਵਾਂ ਆਪੋ ਵਿਚ ਬਿੰਦੂ T ਉਪਰ ਕਟਦੀਆਂ ਹਨ । TP ਦੀ ਲੰਬਾਈ ਪਤਾ ਕਰੋ ।



(ਚਿੱਤਰ - 5)

25. ਇੱਕ ਅੰਕ ਗਣਤਿਕ ਲੜੀ, ਜਿਸਦਾ n ਵਾਂ ਪਦ $a_n = 3 + 2n$ ਰਾਹੀਂ ਦਿੱਤਾ ਗਿਆ ਹੈ, ਦੇ ਪੈਹਲੇ 24 ਪਦਾਂ ਦਾ ਜੋੜ ਪਤਾ ਕਰੋ ।
26. ਧਰਤੀ ਦੇ ਇੱਕ ਬਿੰਦੂ P ਤੋਂ 10 ਮੀ: ਉੱਚੇ ਭਵਨ ਦੇ ਸਿੱਖਰ ਅਤੇ ਇਸਦੇ ਠੀਕ ਉਪਰ ਕੁਝ ਦੂਰੀ ਉਪਰ ਮੰਡਰਾਂਦੇ ਹੈਲੀਕਾਪਟਰ ਦੇ ਉਚਾਣ ਕੋਣ ਕਰਮਵਾਰ 30° ਅਤੇ 60° ਹਨ । ਧਰਤੀ ਤੋਂ ਹੈਲੀਕਾਪਟਰ ਦੀ ਉਚਾਈ ਪਤਾ ਕਰੋ ।
27. ਸਿੱਧ ਕਰੋ ਕਿ ਚੱਕਰ ਦੇ ਕਿਸੇ ਬਿੰਦੂ ਉਪਰ ਖਿੱਚੀ ਗਈ ਸਪਰਸ਼ ਰੇਖਾ, ਸਪਰਸ਼ ਬਿੰਦੂ ਤੋਂ ਹੋ ਕੇ ਜਾਣ ਵਾਲੇ ਅਰਧ ਵਿਆਸ ਉਪਰ ਲੰਬ ਹੁੰਦੀ ਹੈ ।

28. ਚਤੁਰਭੁਜ PQRS ਦਾ ਖੇਤਰਫਲ ਪਤਾ ਕਰੋ ਜਿਸਦੇ ਸਿਖਰ ਬਿੰਦੂਆਂ ਦੇ ਨਿਰਦੇਸ਼ ਅੰਕ $P(-4, -2)$, $Q(-3, -5)$, $R(3, -2)$ ਅਤੇ $S(2, 3)$ ਹਨ ।
29. ਦੋ ਵੱਖੋ ਵੱਖਰੇ ਪਾਸੇ (ਲੂਡੋ ਦੀਆਂ ਗੀਟੀਆਂ) ਇਕੱਠੇ ਇਕ ਵਾਰ ਉਛਾਲੇ ਗਏ । ਉਪਰ ਆਣ ਵਾਲੀਆਂ ਉਨ੍ਹਾਂ ਸੰਖਿਆਵਾਂ ਦੀ ਸੰਭਾਵਨਾ ਪਤਾ ਕਰੋ ਜਿਨ੍ਹਾਂ ਦਾ ਗੁਣਨਫਲ ਇਕ ਪੂਰਨ ਵਰਗ ਹੈ ।
30. ਇਕ ਕਲਾਸ ਟੈਸਟ ਵਿਚ, ਰਵੀਨਾ ਦੇ ਅੰਗ੍ਰੇਜ਼ੀ ਅਤੇ ਗਣਿਤ ਵਿਚ ਕੁਲ ਪ੍ਰਾਪਤ ਅੰਕ 30 ਹਨ । ਜੇਕਰ ਉਸਦੇ ਗਣਿਤ ਵਿਚ 2 ਅੰਕ ਜ਼ਿਆਦਾ ਅਾਂਦੇ ਅਤੇ ਅੰਗ੍ਰੇਜ਼ੀ ਵਿਚ 3 ਅੰਕ ਘਟ ਅਾਂਦੇ ਤਾਂ ਉਸ ਰਾਹੀਂ ਪ੍ਰਾਪਤ ਅੰਕਾਂ ਦਾ ਗੁਣਨਫਲ 210 ਹੁੰਦਾ । ਉਸਦੇ ਦੋਨੋ ਵਿਸ਼ਿਆਂ ਦੇ ਅੰਕ ਪਤਾ ਕਰੋ ।
31. ਇਕ ਤ੍ਰਿਭੁਜ ABC ਬਣਾਓ ਜਿਸ ਵਿਚ ਭੁਜਾ $BC = 7$ ਸੈ:ਮੀ:, $\angle B = 45^\circ$, $\angle A = 105^\circ$ ਹੈ, ਫਿਰ ਇਕ ਦੂਸਰੀ ਤ੍ਰਿਭੁਜ ਦੀ ਰਚਨਾ ਕਰੋ ਜਿਸਦੀਆਂ ਭੁਜਾਵਾਂ ΔABC ਦੀਆਂ ਸੰਗਤ ਭੁਜਾਵਾਂ ਦਾ $\frac{3}{5}$ ਭਾਗ ਹੋਣ ।
-

